

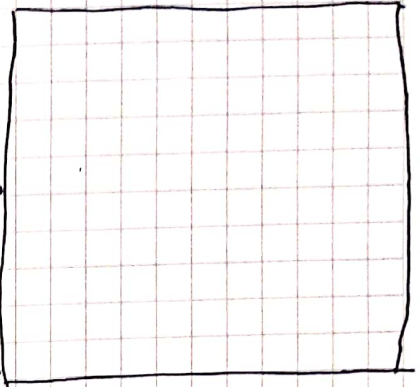
Adı: COĞRAFYA 10.SINIF
Soyadı: YILSONLU BAŞARI SINAVI
Sınıf/No:

1- Dünyanın iç yapısını oluşturan katmanların adlarını
setil çizerek üzerinde belirtiniz.


Katmanlar

—
—
—
—

setli buraya çizin.




2- Jeolojik zamanları tablo çizerek, en az bir özelliğini de belirterek oluşturunuz.



Sadece zamanları ve temel olayları belirtiniz.

3- Dünyamızın oluşumunda bazı kuvvetler etkili olmuştur. Bu kuvvetlerin sınıflandırılarak belirtiniz.
? neler olduklarını? ?



4- Kayaların nasıl sınıflandırıldıklarını şablon üzerinde gösteriniz. Birer örnek veriniz.

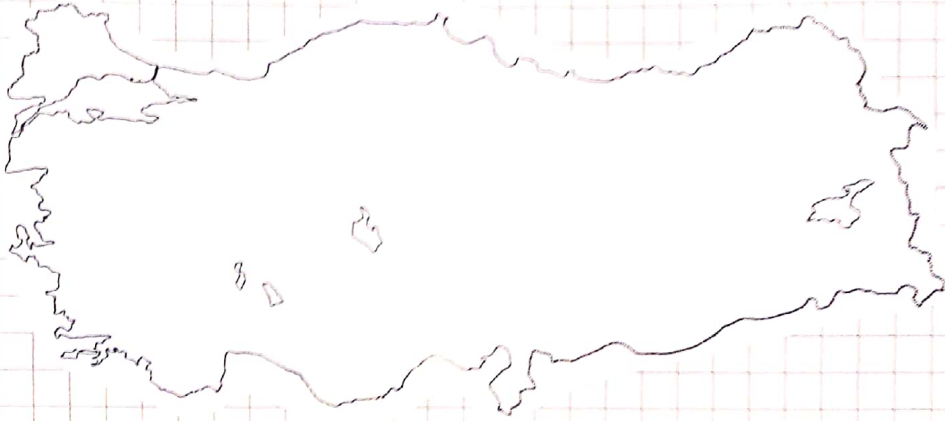
Kayalar



5- Dalga ve akıntuların oluşturdıkları yeryüzü şekillerini belirtiniz.

—
—
—

6- Aşağıda verilmiş Türkiye haritası üzerinde Türkiye'nin temel yersekellerinin neler olduklarını ve daha çok nerelerde -hangi şekillerin geniş yer kapladıklarını belirtiniz. (Karatama yaparak -isim vererek)



7- Dünyamızın su kaynaklarının neler olduklarını belirtiniz.

—
—

8- Dünya'daki önemli akarsuların bazılarını buldukları kıtalar ile beraber belirtiniz.

Avrupa kıtası — Nehirleri (en az bir örnek)

Asya kıtası —

Afrika kıtası —

Kuzey Amerika kıtası —

Güney Amerika kıtası —

Okyanusya kıtası —

9- Toprakların oluşumunda etkili olan unsurları belirtiniz.

—

10- Bitkilerin sınıflandırılmasını sablon olarak gösteriniz. Örnek veriniz. BITKİLER

11- Nüfusun tanımını yaparak, nüfusun temel özelliklerini belirtiniz. (yapısal)

Tanım;

Nüfusun özellikleri

—
—
—
—
—
—

12- Dünya'daki nüfusun artmasında önemli rol oynayan sıçrama dönemleri nelerdir?

—
—
—

13- Dünya'daki nüfusun dağılımına etki eden faktörlerini sablon şeklinde belirtiniz.

Nüfusun dağılımına etki eden faktörler

↓

Faktörler

—
—
—
—
—

↓

Faktörler

—
—
—
—
—

14- Türkiye nüfusunun dağılımında neler etkilidir?

15- Göçlerin nedenlerini sablon çizerek gösteriniz. Her bir nedene birer örnek veriniz.

Göçlerin Nedenleri



16- Türkiye'de yaşanan göçlerin ne gibi sonuçları vardır? Bes sonucu belirtiniz (en az)

-
-
-
-
-

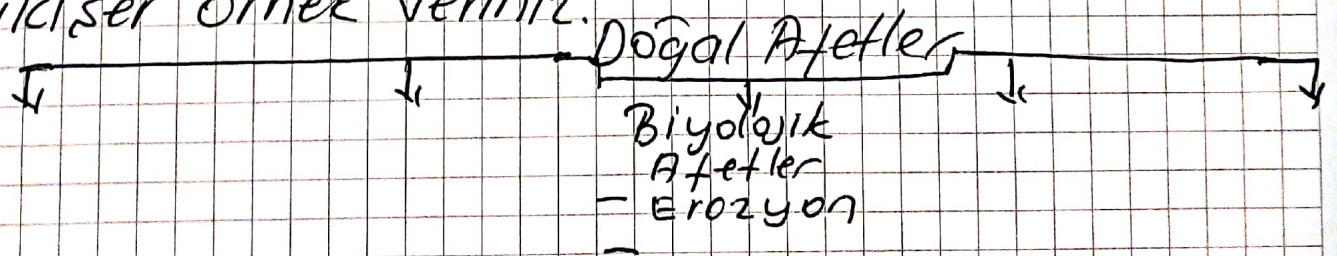
17- İnsanların geçimlerini sağlamak yaptıkları başlıca ekonomik faaliyetler nelerdir? Sıralama yaparak belirtiniz.

1. Ekonomik Faaliyetler;

2. " "
3. " "
4. " "
5. " "

18- Uluslararası ulaşım hatlarının neler olduklarını belirtiniz.

19- Doğal afetleri sablon çizerek gösteriniz ve ilki ser örnek veriniz.



20- Türkiye'de etkili olan doğal afetler nelerdir?