

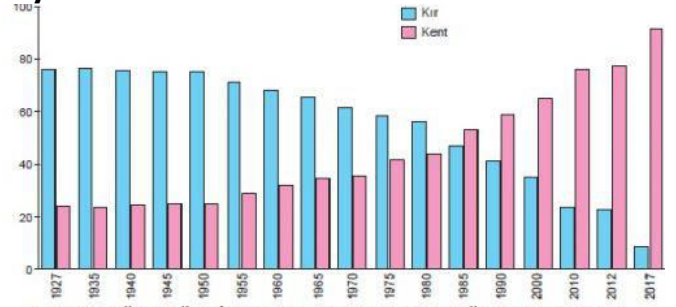
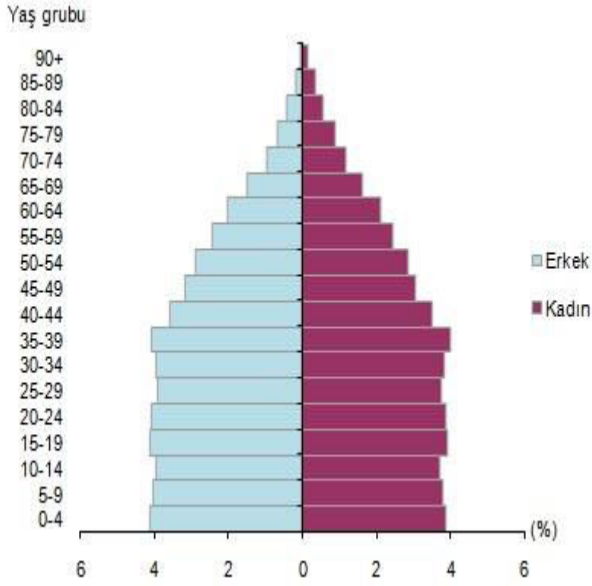
Adı  
Soyadı  
Sınıf/No

..... lisesi Müdürlüğü  
Coğrafya Dersi .... Sınıf Yazılı  
201../201.. Eğitim-Öğretim yılı ..dönem

/.../.....

Puan:

### Türkiye'nin Nüfus piramidi, 2017



YILLARA GÖRE TÜRKİYE'DE KIRSAL KENTSEL NÜFUS ORANLARI

S-3 Yukarıdaki diyagram Türkiye'nin kırsal-kent nüfus yapısındaki değişimi anlatmaktadır. Bu durumun temel nedenlerini belirtiniz.

Kent nüfusu	
Kırsal nüfus	

S-4 Aşağıdaki boşlukları doğru kelimelerle tamamlayınız.

Osmanlı Devleti'nde .....  
döneminde sayım yapılmaya başlanmıştı amaç;  
..... ve .....  
..... belirlemektir. Bundan dolayı sadece  
erkekler sayılmıştı. Bu tarihte Anadolu nüfusunun  
7-7,5 milyon olduğu tahmin edilmektedir.  
Sultan ..... zamanında 1844'te  
kimlik belgesi vermek amacıyla sayım yapılmıştır.  
Bu dönemde Anadolu'da nüfus yaklaşık 10  
milyondur.  
1874 yılında yapılan nüfus sayımına göre Ana  
dolu nüfusu yaklaşık 12 milyondur. Osmanlı  
Devleti'nin nüfusu ise yaklaşık ..... milyonu.

Türkiye'de, ..... yılından beri nüfus  
sayımları yapılmaktadır,

Türkiye'de, ilk kez 1927 yılında nüfus sayımı  
yapılmış ve bu sayımda Türkiye'nin ilk nüfusu  
..... olarak belirlenmiştir.

İlk kez sokağa çıkma yasağı olmaksızın adrese  
dayalı nüfus sayımı ise ..... yılında yapılmış,

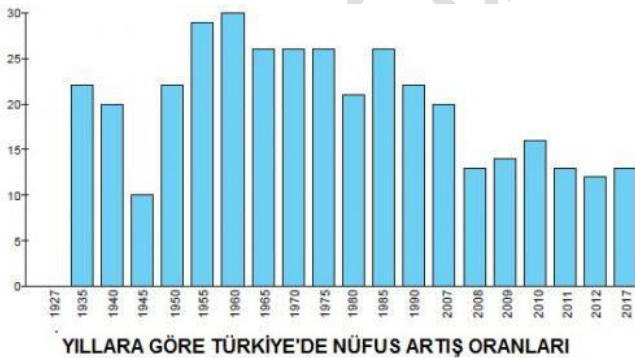
..... yılında sonra, Türkiye'nin  
demografik verileri her yıl düzenli olarak Türkiye  
İstatistik Kurumu tarafından yayımlanmaktadır,

Türkiye'nin nüfusu, % 28'lik nüfus artış hızı  
ile ..... yıllarda 24 milyona ulaşmıştır.,

S-1 Yukarıda verilen Türkiye'nin Nüfus piramidini  
aşağıdaki başlıklara göre yorumlayınız.

Başlıklar	Açıklama yazınız
Doğum oranı	
Ölüm oranı	
Aktif nüfus oranı	
Ortalama yaş	
Sağlık şartları	

S-2 Aşağıda Türkiye'ye ait yıllara göre nüfus artış  
ve azalışları verilmiştir. Artışların ve azalışların  
nedenlerini yazınız.



	Yılları	Nedenleri
Artışlar		
Azalışlar		

Adı

..... lisesi Müdürlüğü

/.../.....

Soyadı

Coğrafya Dersi .... Sınıf Yazılı

Sınıf/No

201../201.. Eğitim-Öğretim yılı ..dönem

Puan:

S-5 Aşağıda TÜRKİYE NÜFUSUNUN YAPISAL

S-6 Aşağıda TÜRKİYE'DE NÜFUS ARTIŞININ

ÖZELLİKLERİ verilmiştir. Boş bırakılan yerleri doğru bilgi ve veriler ile tamamlayınız.

OLUMSUZ SONUÇLARI verilmiştir. Boş bırakılan yerleri doğru bilgi ve veriler ile tamamlayınız.

**a. Türkiye'de Nüfusun Yaş Gruplarına Göre**

Dağılışı; ortanca yaş

erkeklerde .....

kadınlarda .....

genel ortalamada ise ..... dir.

Bu değer bölgelere göre değişir.

**b. Türkiye Nüfusunun Cinsiyet Yapısı**

Ülkemiz toplam nüfusunun %..... erkek,

%.....'u ise kadındır. Türkiye'nin cinsiyet oranı

ise 100,8'dir.

**c. Türkiye'de Kırsal ve Kentsel Nüfus**

Şehirlerde yaşayanlar 2017 yılında %.....'e

yükseldi. Belde ve köylerde yaşayanların oranı ise

%..... olarak gerçekleşti.

**ç. Türkiye'de Çalışan Nüfusun Sektörel**

**Dağılımı**

Ülkemizdeki nüfusun ikincil ekonomik faaliyetlerde

(sanayi) çalışma oranı %27, üçüncül ekonomik

faaliyetlerde (hizmet) çalışma oranı ise %.....'dir,

kırsal bölgelerde birincil ekonomik faaliyetlerde

(tarım) çalışma oranı ise %23'tür,

**d. Türkiye'de Okuryazar Oranı ve Eğitim**

**Durumu**

0-6 yaş hariç okuryazar oranı %..... tür. Bu

değer, erkekler için %98,4, kadınlar içinse

%92,1'dir. Herhangi bir yükseköğretim

kurumundan mezun olan nüfusunuzun toplam

nüfusumuza oranı ise % .....'tir.

**e. Türkiye'de Nüfus Artış Hızı**

Yıllık nüfus artış hızı 2016 yılında %13,5 iken,

2017 yılında %..... oldu.

Ülkemizde nüfus artış hızı azalmaktadır, Türkiye

en hızlı nüfus artış hızını, % 28'lik nüfus artış hızı

ile 1950 yılında yakalamıştır,

**f. Türkiye'de Nüfusun Dağılışı**

Türkiye'de Marmara, Akdeniz ve Ege kıyıları

yoğundur. Başkent Ankara'da, Güneydoğu

Anadolu'da ise Diyarbakır'da nüfus yoğunluğu

fazladır.

**Nüfus yoğunluğu** olarak ifade edilen "bir

kilometrekareye düşen kişi ..... kişi oldu.

İstanbul, kilometrekareye düşen 2 892 kişi ile

nüfus yoğunluğunun en yüksek olduğu ilimiz oldu.

Nüfus yoğunluğu en az olan il ise bir önceki yılda

olduğu gibi, kilometrekareye düşen ..... kişi

ile..... oldu.

- doğal kaynakların fazla tüketilmesi,

- kalkınma hızının .....,

- kişi başına düşen gelirin .....,

- nüfusa yönelik yatırımların .....

- çevre sorunlarının yaşanması,

- ihracatın .....

- iç- dış göçlerin .....

- beslenme sorunlarını .....

- işsizlik .....

- eğitim, sağlık, ulaşım ve belediye hizmetlerinde

aksaklıkların yaşanması

**S-7-Türkiye'de Seyrek Nüfuslu Bölgeleri**

**belirtiniz**

1	
2	
3	
4	
5	

**TÜRKİYE'DE NÜFUSUN DAĞILIŞINA ETKİ**

**EDEN ETMENLER**

**1- FİZİKİ ETMENLER**

1-

2-

3

3

**2-BEŞERİ ETMENLER**

1-

2-

3-

4-

5-

5-

.