

Adı
Soyadı
Sınıf/No

..... lisesi Müdürlüğü
Coğrafya Dersi Sınıf Yazılı
201../201.. Eğitim-Öğretim yılı ..dönem

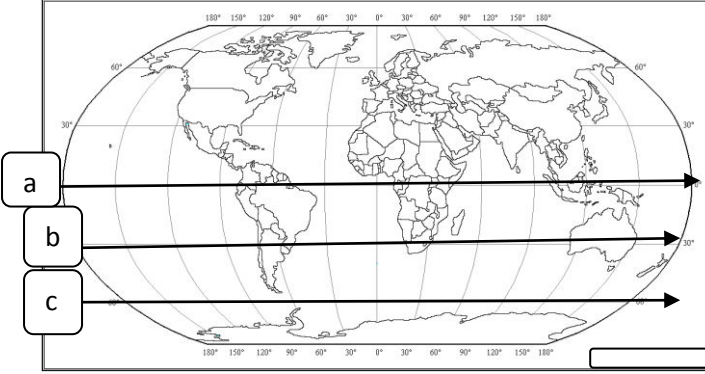
/.../.....

Puan:

1- Coğrafyanın bölümleri; eşleştiriniz.

| Açıklama | Coğrafyanın alt alanı |
|--|-----------------------|
| Dünya üzerinde veya bir ülke içinde yer alan herhangi bir bölgenin genel coğrafi özelliklerini inceler | |
| İnsanların kültürel özelliklerini ve bunların yeryüzüne dağılışını inceler. | |
| Ulaşım üzerinde etkili olan faktörleri, ulaşım türlerini ve bunların dağılışını inceler | |
| Nüfus artışını, kıy ve şehir nüfusunu, nüfusun yaş, cinsiyet, eğitim özelliklerini, yoğunluğunu, sektörel dağılımını ve bunların dağılışında etkili olan faktörleri inceler. | |
| Bitki ve hayvan topluluklarının yeryüzündeki dağılışını ve bu dağılışı etkileyen faktörleri inceler. | |

2- Aşağıdaki harita üzerinde 200 km'lik batı-doğu yönlü mesafede hangi çizgi üzerinde yerel saat farkı az olur?



3-Meridyenler;anti meridyenler,

| Meridyenler | Anti meridyenler |
|-------------|------------------|
| 23° BM | |
| 13°DM | |
| 126°DM | |
| 133° BM | |

4- Matematik Konum; Paraleller,

| Yönleri | | |
|----------|--|--|
| Sayıları | | |
| Toplam | | |

5-Coğrafyanın bölümleri; boşlukları doldurunuz.

| Coğrafya | | |
|-----------------|------------------|--------------------|
| Fiziki Coğrafya | | |
| | Nüfus Coğrafyası | |
| | | Kıtalar Coğrafyası |

6-Yerel saatler; nasıl bulunur, işlem basamaklarını yazınız.

| | |
|---|--|
| 1 | |
| 2 | |
| 3 | |
| 4 | |

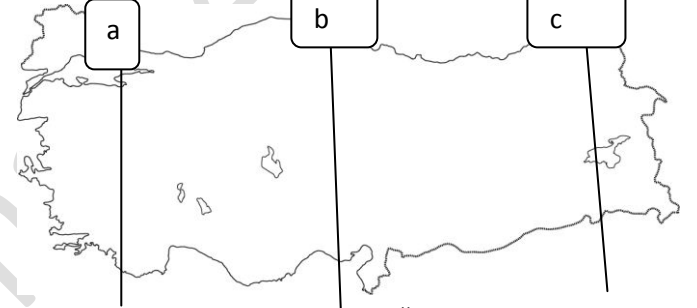
7-Yerel saat hesaplama;

| | | | |
|-------|-----------|-------|-------|
| 77°BM | 0°Baş Mer | 57°DM | 77°DM |
| | | | |

Yukarıda 57°DM yerel saat 11:45'tir. Buna göre; Yerel saatleri bulunuz.

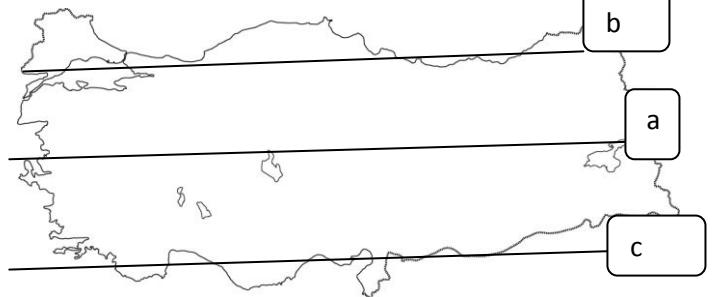
| | |
|------------|--|
| 77°BM | |
| 0°Baş Mer. | |
| 77°DM | |

8- Yerel saatler;



- 1-Güneş en önce hangi yerde doğar?
- 2- Güneş en önce hangi yerde batar?
- 3- Hangi yerin yerel saati ulusal saate yakındır?
- 4- Hangi yerin yerel saati ulusal saate uzaktır?
- 5- Hangi yerin boylam derecesi yüksektir?
- 6-Hangi yer Başlangıç Meridyenine yakındır?
- 7- Hangi yer Başlangıç Meridyenine uzaktır?
- 8- Hangi yer Almanya' ya daha yakındır?

9- Yerel saatler;



- 1- Hangi yer kuzey kutuba daha yakındır?
- 2- Hangi yer Ekvatora daha uzaktır?
- 3- Hangi yerin Enlem derecesi yüksektir?
- 4-Hangi yer Ekvatora daha yakındır?
- 5- Hangi yer de sıcaklık daha yüksektir?