

Adı  
Soyadı  
Sınıf/No

..... lisesi Müdürlüğü  
Coğrafya Dersi .... Sınıf Yazılı  
201../201.. Eğitim-Öğretim yılı ..dönem

/.../.....

Puan:

1-Rüzgarın tanımını yapınız.

8- Rüzgarlar neye göre sınıflandırılırlar?

2- Rüzgarlar nerelerde oluşur?

1	
2	
3	


3- Rüzgarların esiş yönünü etkileyen faktörler nelerdir?

1	
2	
3	

9-Rüzgarlar kaç gruba ayrılır?

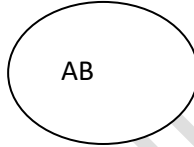
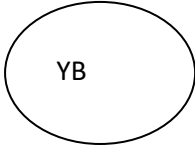
	Mevsimlik Rüzgarlar		

4- Koriolis kuvvetini açıklayınız.

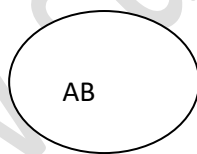
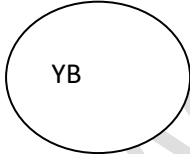
10- Rüzgarların esiş yönleri;

5-Koriolis kuvveti en çok neleri etkiler?

6--Koriolis kuvvetine göre rüzgarların yönü nasıl olur?



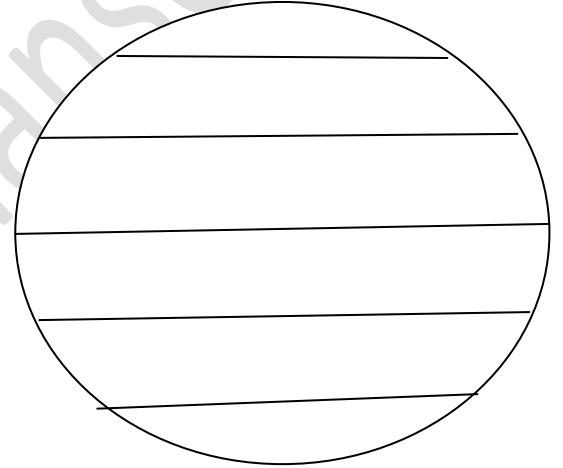
Ekvator



Rüzgarın esiş yönünü okla gösteriniz.

7- Rüzgarların hızını etkileyen faktörler nelerdir?

1	
2	
3	
4	



A-Rüzgarların esiş yönlerini enlemlere göre çiziniz.

- Alizelerin esiş yönünü küre üzerinde gösteriniz.

-Batı Rüzgarlarının esiş yönünü küre üzerinde gösteriniz.

-Kutup Rüzgarlarının esiş yönünü küre üzerinde gösteriniz.

B- Her çizginin enlem değerini derece olarak çizgilerin karşlarına yazınız.