

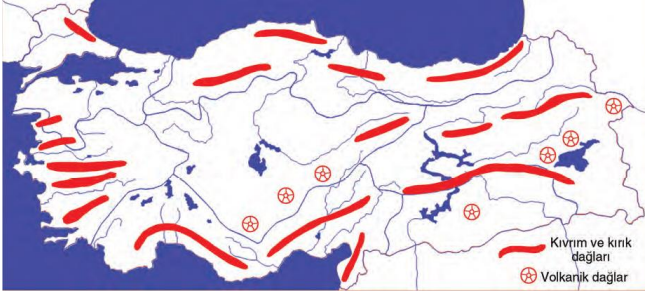
Adı  
Soyadı  
Sınıf/No

..... lisesi Müdürlüğü  
Coğrafya Dersi .... Sınıf Yazılı  
2016/2017 Eğitim-Öğretim yılı 2.dönem

/.../.....

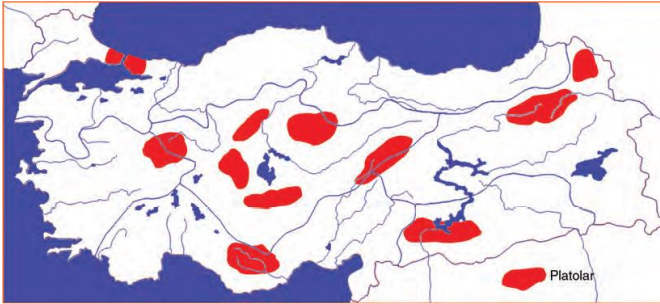
Puan:

1-Aşağıdaki Türkiye haritası üzerinde dağlar verilmiştir. Buna göre;



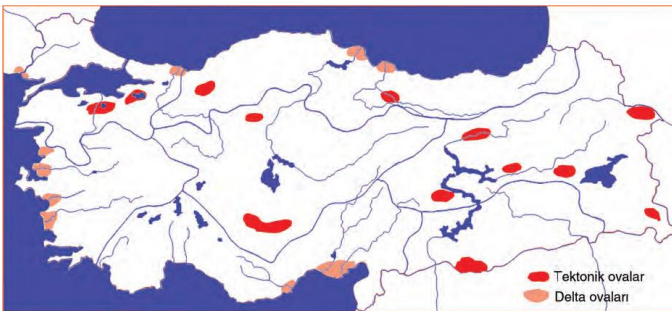
- a-kıvrımlı dağları  
b-tek-volkanik dağları  
c-kırık dağların yerlerini harita üzerinde belirtiniz

2-Aşağıdaki Türkiye haritası üzerinde platolar verilmiştir. Buna göre;



- a-Marmara Bölgesindeki  
b-İç Anadolu Bölgesindeki  
c-Akdeniz Bölgesindeki  
d-Güneydoğu-Doğu Anadolu Bölgesindeki **platoları** harita üzerinde belirtiniz.

3-Aşağıdaki Türkiye haritası üzerinde ovalar verilmiştir. Buna göre;



- a-Marmara Bölgesindeki  
b-İç Anadolu Bölgesindeki  
c-Akdeniz Bölgesindeki  
d-Güneydoğu-Doğu Anadolu Bölgesindeki **ovaları** harita üzerinde belirtiniz.

4-Türkiye'de iç kuvvetler;

İç kuvvetler	Türkiye'de örnekler

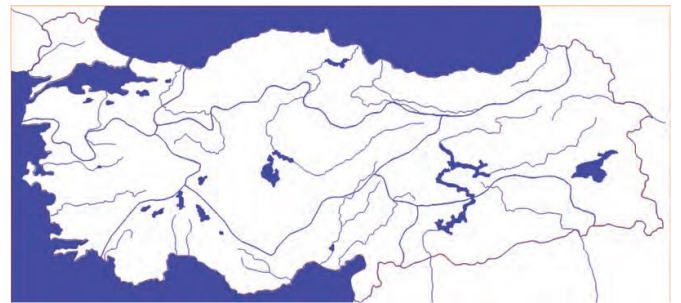
5-Türkiye'de dış kuvvetler;

Dış kuvvetler	Türkiye'de örnekler

6-Türkiye'de dış kuvvetlerin oluşturduğu şekiller;

Coğrafi Şekiller	Oluşumu sağlayan dış kuvvet	Oluşum şekli-aşındırma//biriktirme
Haliç		
Delta		
Devkazanı		
Traverten		
Kumul		
Vadi		

7- Aşağıdaki Türkiye haritası verilmiştir.



Türkiye üzerinde dış kuvvetlerin etkisi bölgelere göre değişiklik göstermektedir. Buna göre;

- a-Marmara Bölgesinde  
b-İç Anadolu Bölgesinde  
c-Akdeniz Bölgesinde  
d-Güneydoğu Anadolu Bölgesinde  
e-Doğu Anadolu Bölgesinde etkili olan dış kuvvetleri harita üzerinde belirtiniz.