

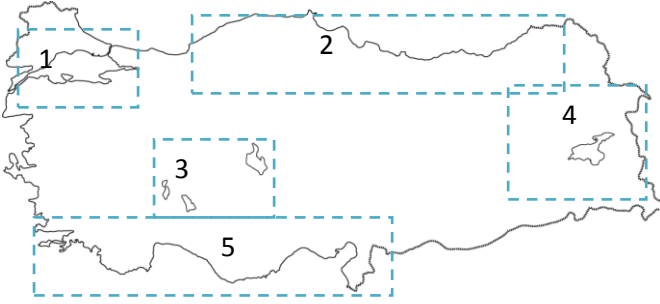
Adı
Soyadı
Sınıf/No

..... lisesi Müdürlüğü
Coğrafya Dersi Sınıf Yazılı
2016/2017 Eğitim-Öğretim yılı 2.dönem

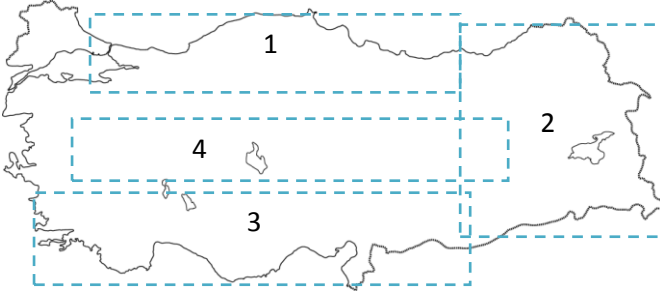
/.../.....

Puan:

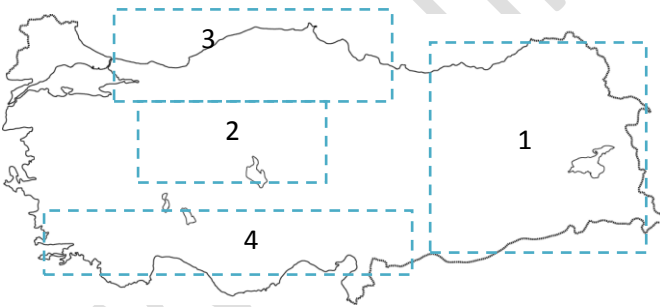
1-Ülkemizin kapalı /açık havzaları harita üzerinde belirtilmiştir. Hangisinin kapalı/açık olduğunu belirtiniz.



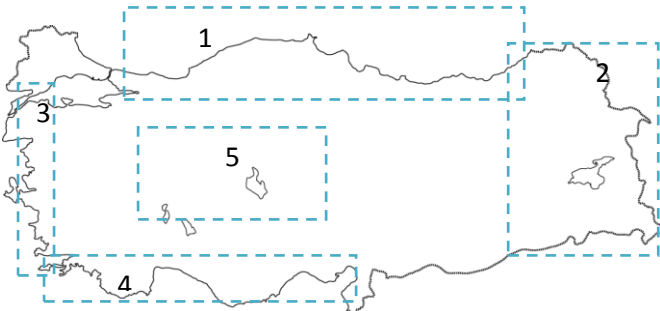
2- Akarsu rejimleri bir yerin ikliminden etkilenir. Bazen diğer etkenlerde etkili olur. Aşağıda belirtilen yerlerin hangilerinde akarsu rejimleri düzenli//hangileri düzensizdir?



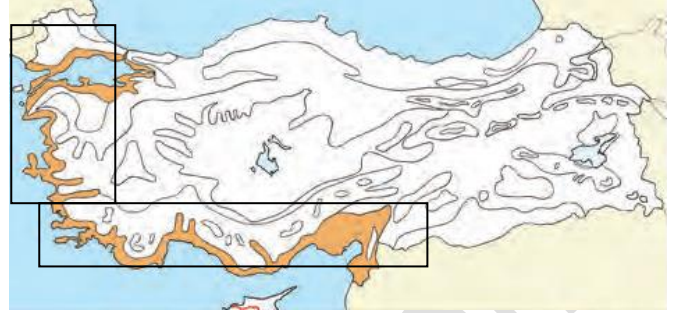
3-Hes (hidroelektrik enerji) için en uygun arazi hangisidir? Belirtiniz.



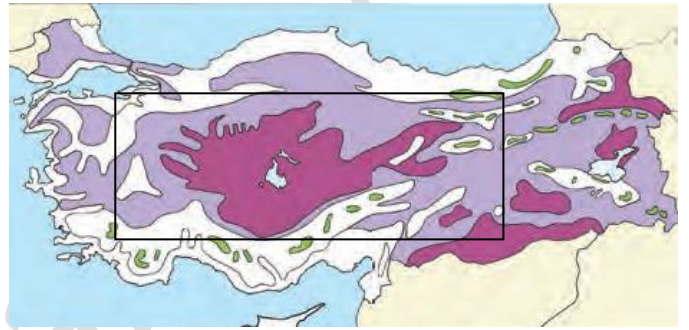
4-Bitki formasyonları dağılışı bölgelere göre nasıldır? Belirtiniz.



5- Aşağıda belirtilen bitki formasyonunun adı nedir?



6- Aşağıda belirtilen bitki formasyonunun adı nedir?



7- Aşağıda belirtilen bitki formasyonunun adı nedir?



8-Toprak dağılışı; terra rossa, kahverengi orman, çernozyom, çorak, bozkır-step topraklar

