

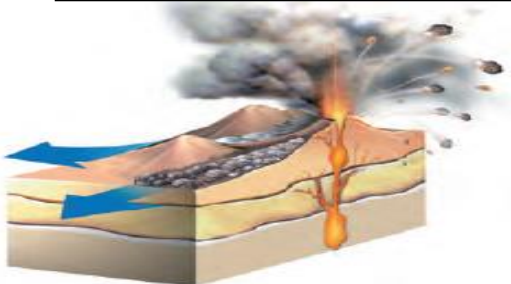
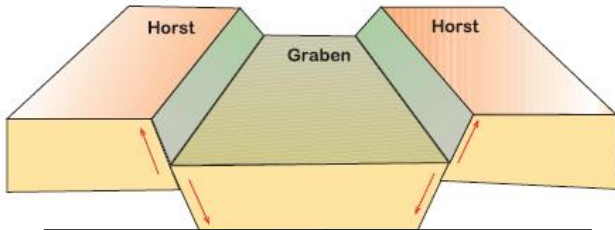
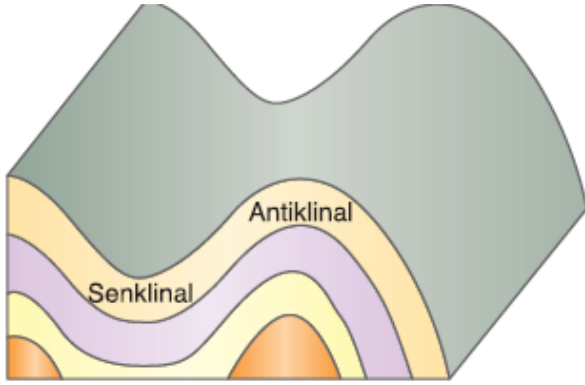
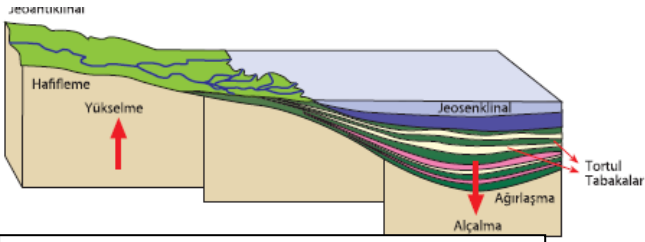
Adı  
Soyadı  
Sınıf/No

..... lisesi Müdürlüğü  
Coğrafya Dersi .... Sınıf Yazılı  
2016/2017 Eğitim-Öğretim yılı 2.dönem

/.../.....

Puan:

1-Aşağıdaki görsellerin ne olduklarını belirtiniz?

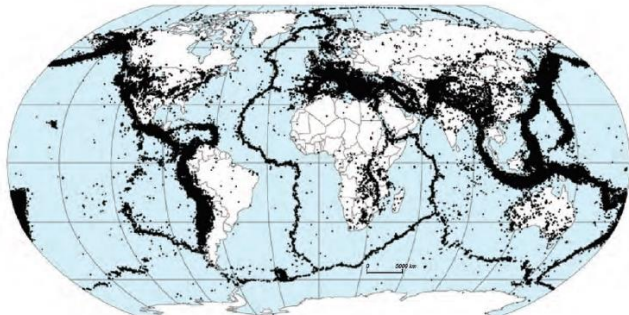
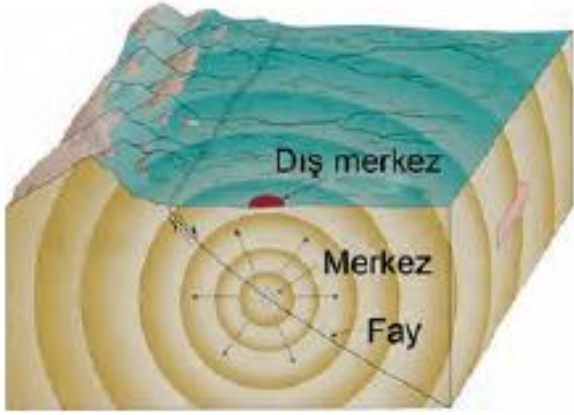
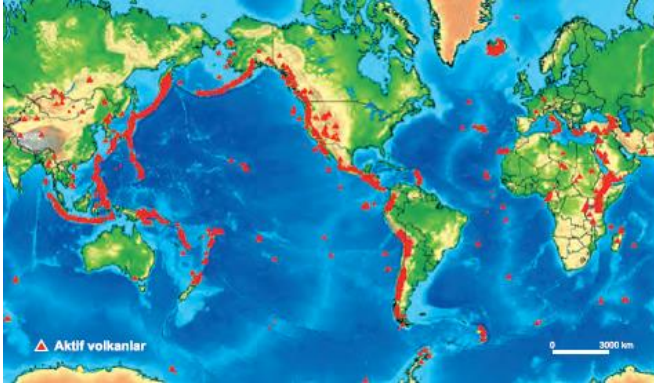


Adı  
Soyadı  
Sınıf/No

..... lisesi Müdürlüğü  
Coğrafya Dersi .... Sınıf Yazılı  
2016/2017 Eğitim-Öğretim yılı 2.dönem

/.../.....

Puan:



	Depreme neden olur.	Deprem sonucunda oluşur.	Epirojenez neden olur.	Epirojenez sonucunda oluşur.	Orojenez neden olur.	Orojenez sonucunda oluşur.	Volkanizmaya neden olur.	Volkanizma sonucunda oluşur.
Mantodaki konveksiyonel akımlar								
Kıyı şekilleri								
Buzul erimesi			+					
Krater								
Levha hareketleri	+				+		+	
Yer kabuğunda kırıklar								
Karalardaki aşınma								
Deniz genişlemesi								
Kaldera								
Kıvrım dağların oluşması								
Volkan konisi								
Maar								
Deniz ilerlemesi								
Kırk dağlar								