

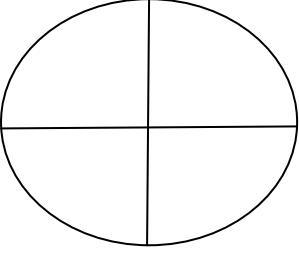
Adı  
Soyadı  
Sınıf/No

..... lisesi Müdürlüğü  
Coğrafya Dersi .... Sınıf Yazılı  
201../201.. Eğitim-Öğretim yılı ..dönem

/.../.....

Puan:

S-1-Koordinat sistemi;



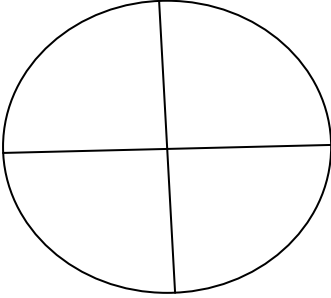
Yukarıdaki kuzey-güney yönlü çizilmiş çizginin adı ve değeri nedir?

|  |  |
|--|--|
|  |  |
|--|--|

Yukarıdaki doğu-batı yönlü çizilmiş çizginin adı ve değeri nedir?

|  |  |
|--|--|
|  |  |
|--|--|

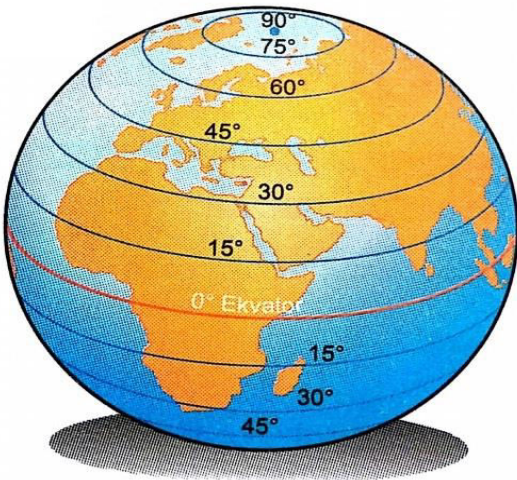
S-2 Koordinat sistemi;



Yukarıdaki küre üzerine beş kuzey, beş güney paraleli çiziniz.

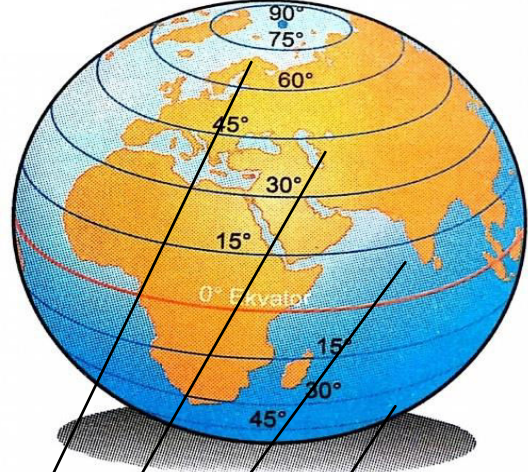
Yukarıdaki küre üzerine beş doğu, beş batı meridyeni çiziniz

S-3



Yukarıdaki küre üzerinde belirtilen paralellere ait beş özellik belirtiniz.

S-4



1 2 3 4

a-1 ile 2 arasındaki uzaklık ne kadardır?

|  |
|--|
|  |
|--|

b-1 ile 3 arasındaki uzaklık ne kadardır?

|  |
|--|
|  |
|--|

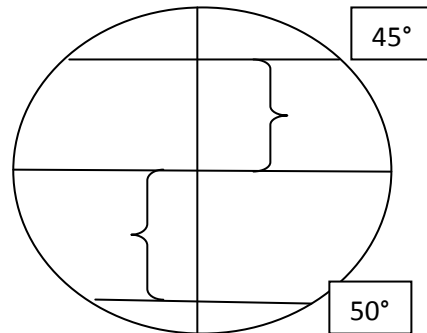
c- 2 ile 4 arasındaki uzaklık ne kadardır?

|  |
|--|
|  |
|--|

d-1 ile 4 arasındaki uzaklık ne kadardır?

|  |
|--|
|  |
|--|

S-5 Enlem değerleri;



Yukarıda ki küre üzerinde enlem değerlerini belirtiniz

Ayrıca enlemin etkilerini belirtiniz.

Adı  
Soyadı  
Sınıf/No

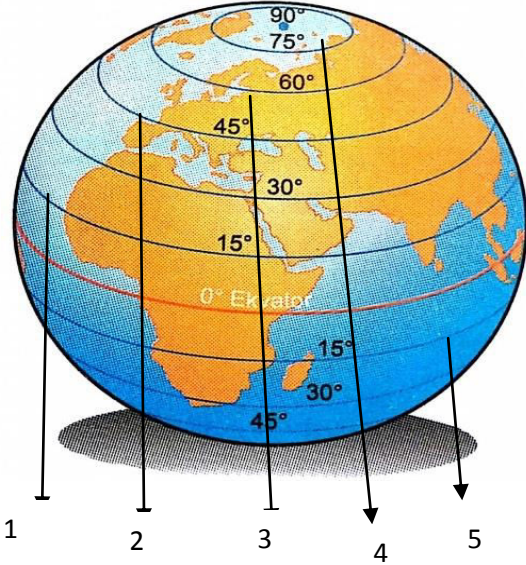
..... lisesi Müdürlüğü  
Coğrafya Dersi .... Sınıf Yazılı  
201../201.. Eğitim-Öğretim yılı ..dönem

/.../.....

Puan:

Aşağıdaki rakamların değerlerini yazınız.

S-5 Enlemin etkileri;



|   | değerleri | yönleri |
|---|-----------|---------|
| 1 |           |         |
| 2 |           |         |
| 3 |           |         |
| 4 |           |         |

S-7 Meridyenin özellikleri;



Meridyen Yayları

a-1 ile 2 arasındaki fark nedir?

b-1 ile 3 arasındaki fark nedir?

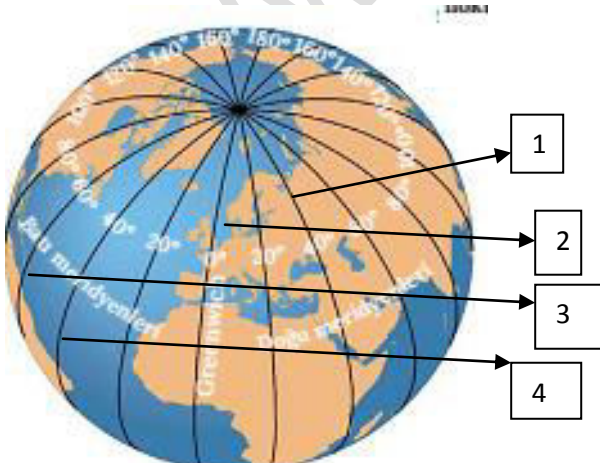
c- 2 ile 4 arasındaki fark nedir?

d-1 ile 4 arasındaki fark nedir?

e-5 ile 4 arasındaki fark nedir?

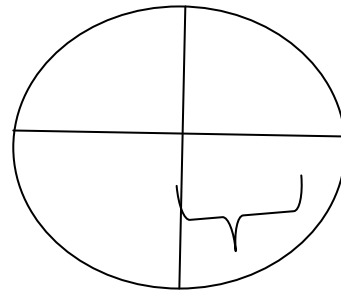
|   |  |
|---|--|
| 1 |  |
| 2 |  |
| 3 |  |
| 4 |  |
| 5 |  |

S-6



Meridyen yayları

S-8 Boylamın etkileri;



Boylamın etkilerini belirtiniz.