

Adı
Soyadı
Sınıf/No

..... lisesi Müdürlüğü
Coğrafya Dersi Sınıf Yazılı
201../201.. Eğitim-Öğretim yılı ..dönem

/.../.....

Puan:

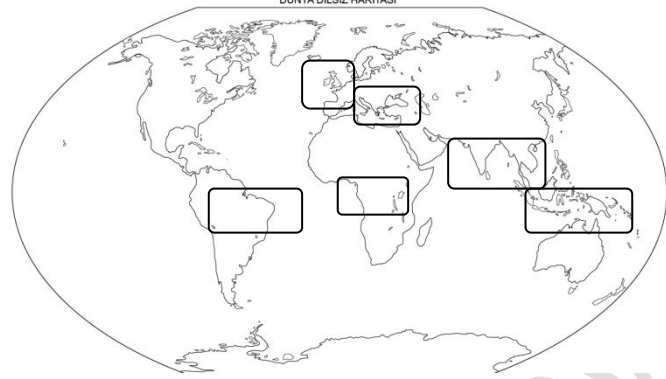
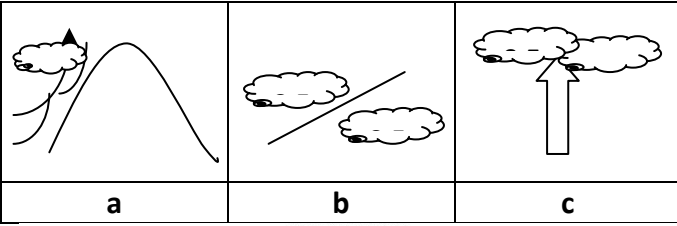
S-1 Yağış; tanımı,

--

S-2 Yağış; yağış şekilleri

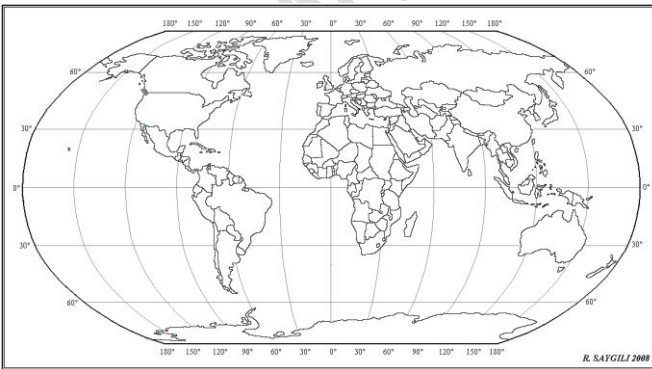
S	Yağış şekilleri
1	
2	
3	

S-3 Yağışlar; oluşum görselleri,



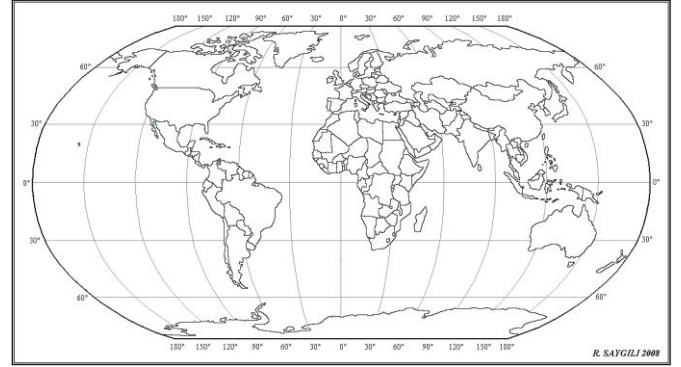
Yukarıda yağış oluşum şekilleri ve etkili olduğu yerler belirtilmiştir. Bu bilgiler doğrultusunda nerelerde hangi yağış tipinin etkili olduğunu eşleştirmek suretiyle belirtiniz.

S-4 Yağışlar; en çok yağış alan yerler,



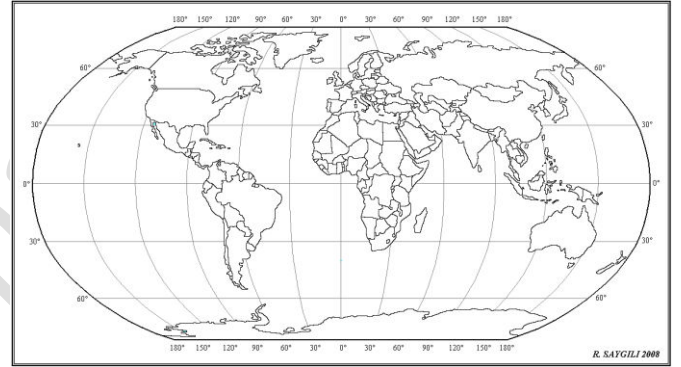
Yukarıda ki Dünya haritası üzerinde en çok yağış alan yerleri 0,5 cm yarı çaplı çemberler çizmek suretiyle belirtiniz.

S-5 Yağışlar; en az yağış alan yerler,



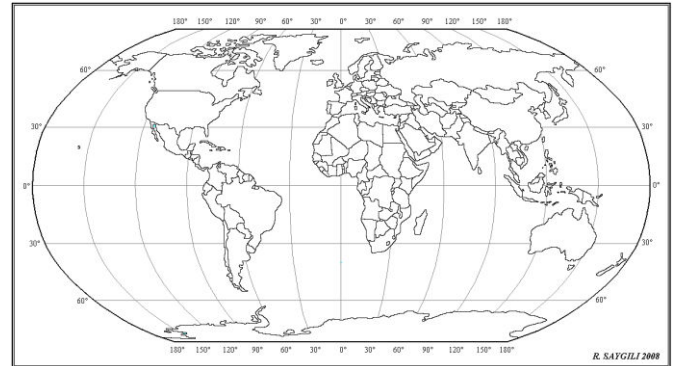
Yukarıda ki Dünya haritası üzerinde en az yağış alan yerleri 0,5 cm yarı çaplı çemberler çizmek suretiyle belirtiniz.

S-6 Yağışlar; az-çok yağış alan yerler ve nedenleri



Yukarıda ki Dünya haritası üzerinde okyanus akıntılarından dolayı az yağış alan yerleri çizmek suretiyle belirtiniz

S-7 Yağışlar; az-çok yağış alan yerler ve nedenleri



Yukarıda ki Dünya haritası üzerinde okyanus akıntılarından dolayı çok yağış alan yerleri çizmek suretiyle belirtiniz.