

Adı
Soyadı
Sınıf/No

Coğrafya 9
Yıl sonu Başarı Sınavı

...06.2019

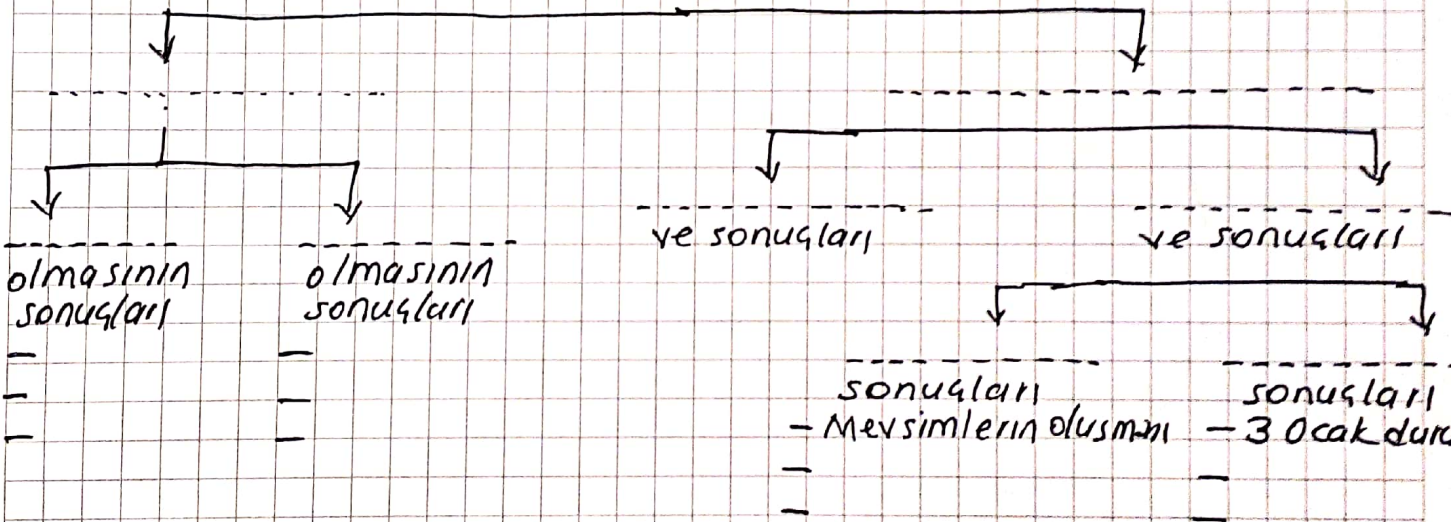
1-Doğayı oluşturan dört temel unsuru belirtiniz.

2- Coğrafyanın bölümlerini ve alt bilimlerini belirtiniz

A- _____ ?
B- _____ ?

3- Dünya'nın sekli ve ^{hareketlerinin} sonuçlarına göre hazırlanmış Sablonu tamamlayınız.

Dünya'nın sekli ve hareketleri

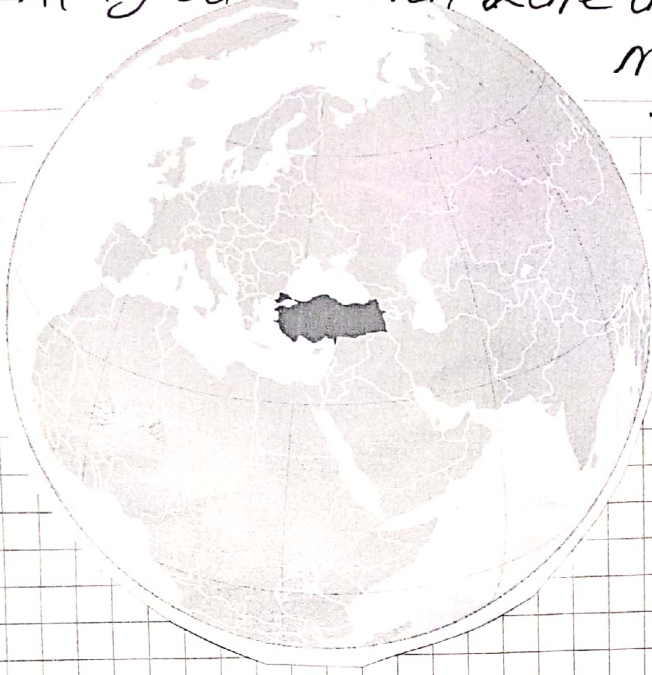


4- Aşağıda bazı tarihler verilmiştir. Bu günlerde yaşanan durumlarda bazılarını ilgili yere yazınız

Tarihler	I. durum	II. durum
21 Mart →		
21 Haziran →		
23 Eylül →		
21 Aralık →		

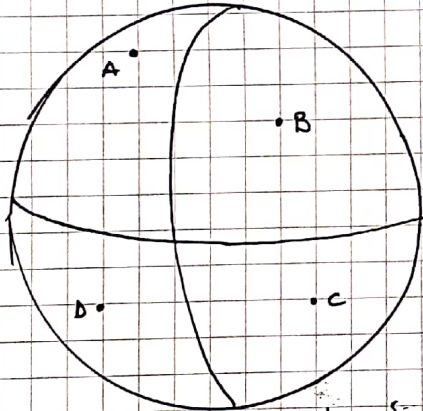
5- Dünya'nın "Koordinat sistemi" deyince aklına gelen bilgileri belirtiniz.

6- Aşağıda verilen küre üzerinde Türkiye'nin matematik konumunu meridyen ve paralelleri çizerek gösteriniz. Her bir meridyen çizgisinin ve paralel çizgisinin yön ve değerlerini de belirtiniz.

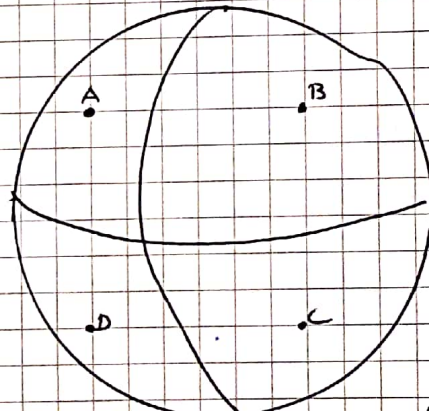


(Batı-Doğu-Kuzey-Güney) setinde.

7 Aşağıda verilmiş küre üzerinde enlem-boylam değerlerini setil çizerek gösteriniz.

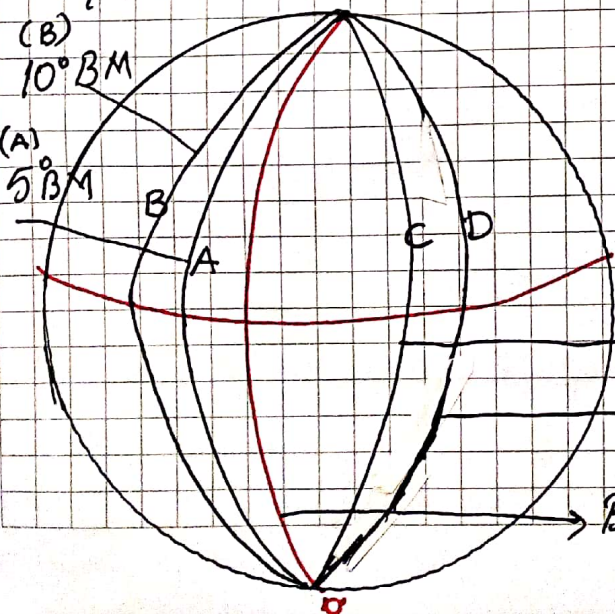


Boylamı gösteriniz.



Enlemi gösteriniz

8- Yerel saatleri meridyen değerlerine göre hesaplıyoruz. Aşağıdaki küre üzerinde verilen meridyenlerin yerel saatlerini hesaplayınız.



A = Saat 10.15 ise

B = Yerel Saat ?

C = ?

D = ?

0 Ekvator

25° DM (C)

30° DM (D)

Başlangıç Meridyeni

9- Haritalarda kullanılan Projeksiyon türlerini belirtiniz.

10- Ölçek nedir? Kaç türlü ölçek kullanılır? (Haritalarda)

11- Atmosfer nedir? Yerden yukarı doğru katmanlarını belirtiniz.

Tanım

Katmanları

—
—
—
—

uzun yer

12- İklimin tanımını yapınız, başlıca iklim elementlerini belirtiniz.

Tanım

iklim elementleri

—
—

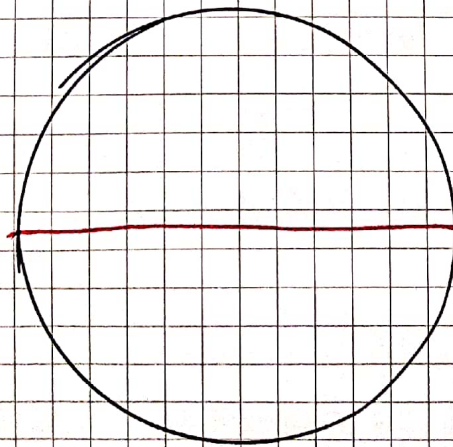
—
—

13- Sıcaklığı etkileyen faktörleri belirtiniz.

—
—
—

—
—
—

14- Aşağıdaki küre üzerinde enlemlere göre basınç merkezlerini belirtiniz.



15- Rüzgarların kesitlerini belirtiniz.


A ———
—
—

B ———
—
—

C ———
—
—

16- Yağışların oluşum sebeplerini belirtiniz.

17- Yeryüzündeki ana iklim tiplerini sema ile gösteriniz.




18- Türkiye iklimini etkileyen temel iki faktörü belirtin.

A B


19- Yerleşmeyi etkileyen unsurları sema şeklinde belirtiniz.

Yerleşme

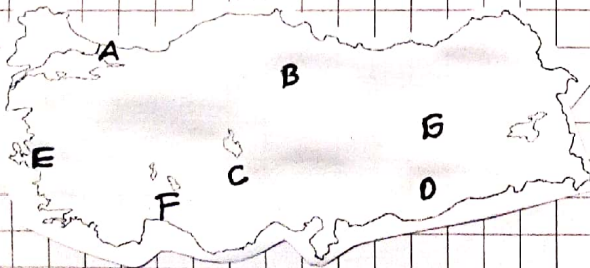


20- Yerleşme tiplerini sema üzerinde gösteriniz.

Yerleşme Tipleri



21- Türkiye'de ilk yerleşmelere örnekler veriniz.



A -
B -
C -
D -
E -
F -
G - Aslantepe

22- İnsanlar doğal ortamlara etki ederler. Bu doğal ortamlar hangileridir?
