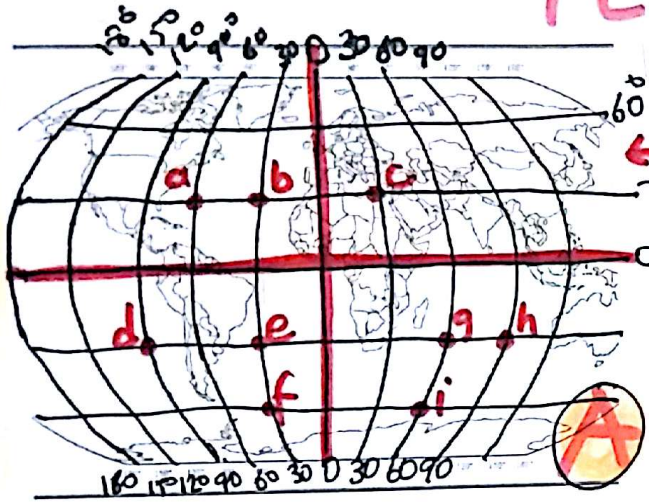


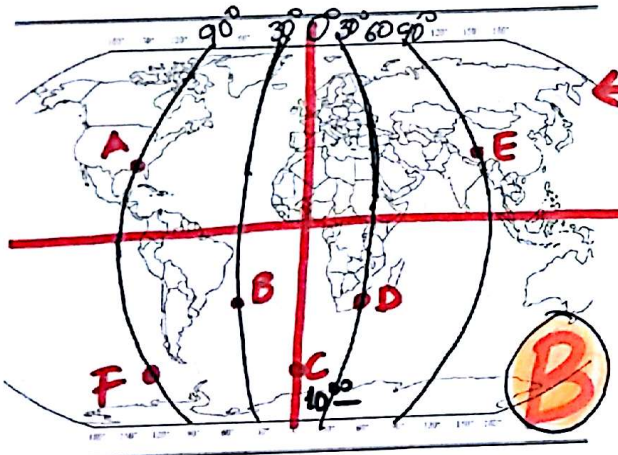
# YEREL SAATLER



(Değerlendirme soruları) (9)

Yandaki (A) haritasında şehirler ve bulunduğu Coğrafi koordinatlar verilmiştir. Buna göre;

- 1- Yerel saatleri aynı olan yerler; . . . . .
- 2- Yerel saati en ileride olan; . . . . .
- 3- Yerel saati en geride olan; . . . . . yerleri belirtiniz.

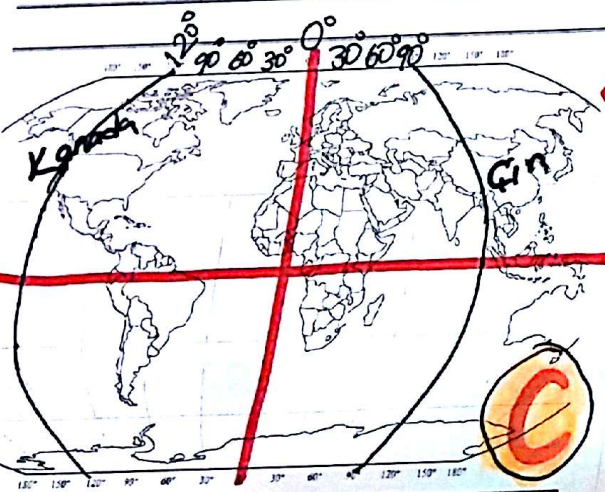


Yandaki (B) haritasında beş merkez ve boylam dereceleri - meridyenleri verilmiştir. Buna göre;

A şehrinde saat sabah 10<sup>00</sup> ise;

- 1- F şehrinde ?
- 2- B şehrinde ?
- 3- E şehrinde ?

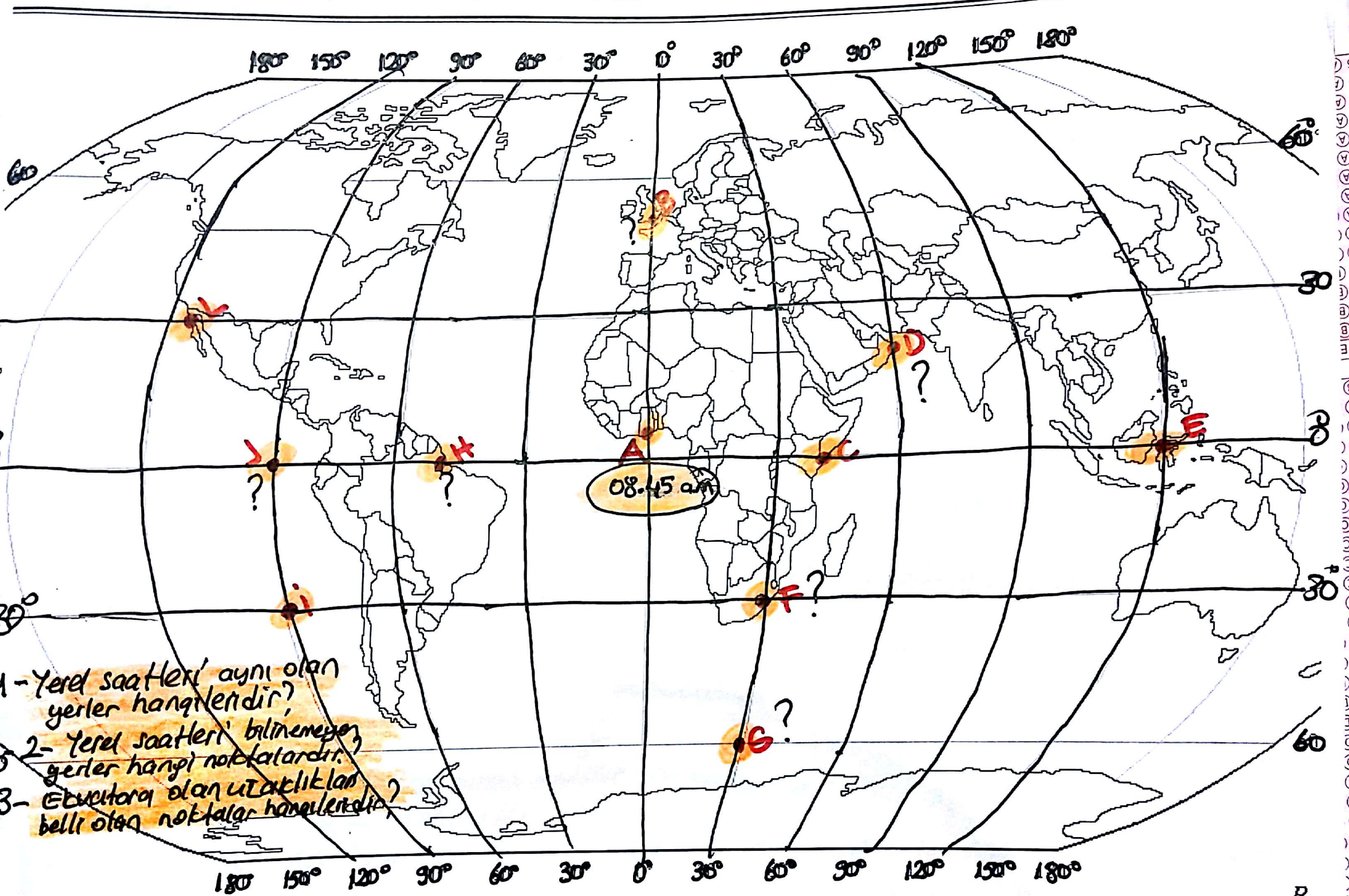
Yerel saatler nedir?



Yandaki (C) haritasında iki meridyen dairesi verilmiştir. Ülkelerin kullandıkları ulusal saat sistemleri göz önüne alındığında;

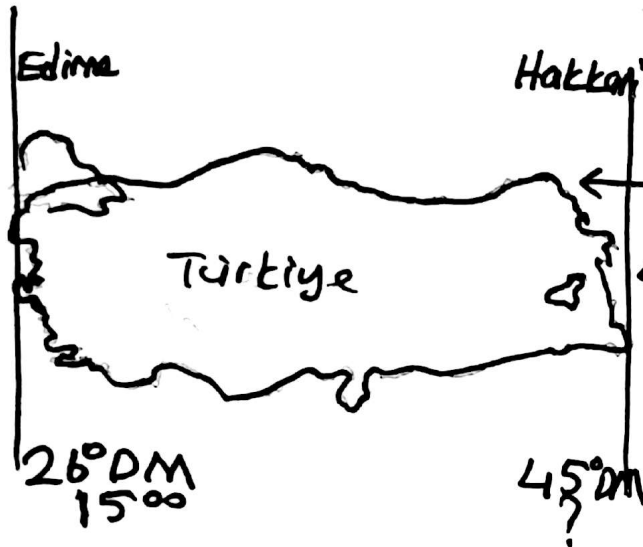
- 1- Kanada hangi saat diliminde;
- 2- Çin hangi saat diliminde yer alır?
- 3- iki ülke arasında kaç saat zaman farkı vardır?



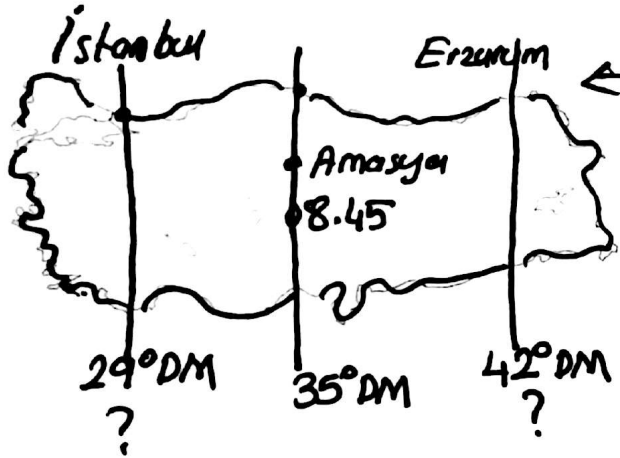


- 1- Yerel saatleri aynı olan yerler hangileridir?
- 2- Yerel saatleri bilinmeyen yerler hangi noktalardır?
- 3- Ekvatora olan uzaklıklar belli olan noktalar hangileridir?

# YEREL SAAT TÜRKİYE



Yandaki Türkiye haritasında Türkiye'nin matematik konumuna ait meridyen bilgileri verilmiştir. Bu bilgilere göre Edirne'de yerel saat 15.00 iken Hakkari'de yerel saat kaçtır? Aralarında da toplan kaç dakikalık yerel saat farkı bulunmaktadır?



Yandaki Türkiye haritası üzerindeki Amasya ilinde yerel saat sabah 08.45 olarak verilmiştir. Buna göre İstanbul'da ve Erzurum'da yerel saatler ne olur?  
Önce İstanbul'daki yerel saat?  
Sonra Erzurum'daki yerel saat?



Yandaki harita üzerinde bazı illerimiz verilmiştir. Bu haritaya göre;  
1- Güneşi ilk gören merkezler hangileridir?  
2- Yerel saati önde olan merkezler hangileridir?  
3- Güneşi en son gören merkezler hangileridir?  
4- Yerel saatleri birbirine yakın merkezler hangileridir?  
5- Yerel saat farkları bulunabilir mi?