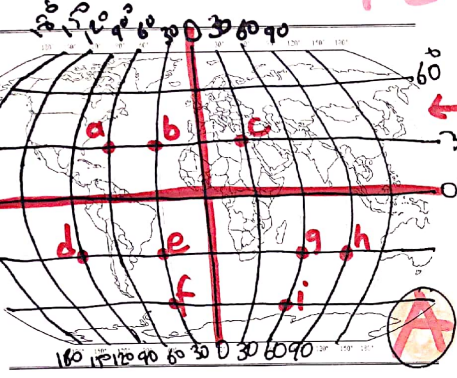
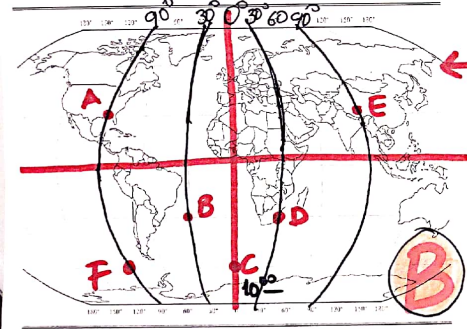


YEREL SAATLER

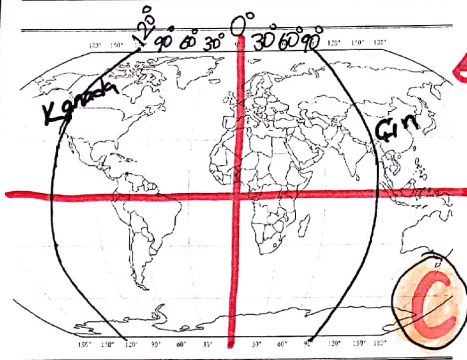
(Değerlendirme soruları)(9)



Yandaki (A) haritasında şehirler ve buharlıkların coğrafi koordinatları verilmiştir. Buna göre;
1- Yerel saatleri aynı olan yerler;
2- Yerel saati en ileride olan;
3- Yerel saati en geride olan;
yerleri belirtiniz.



Yandaki (B) haritasında beş merkez ve boylam dereceleri - meridyenleri verilmiştir. Buna göre;
A şehrinde saat sabah 10^{00} ise;
1- F şehrinde ?
2- B şehrinde ?
3- E şehrinde ?
Yerel saatler nedir?



Yandaki (C) haritasında iki meridyen dairesi verilmiştir. Ülkelerin kullandıkları ulusal saat sistemleri göz önüne alındığında;
1- Kanada hangi saat diliminde;
2- Çin hangi saat diliminde yer alır?
3- iki ülke arasında kaç saat zaman farkı vardır?