

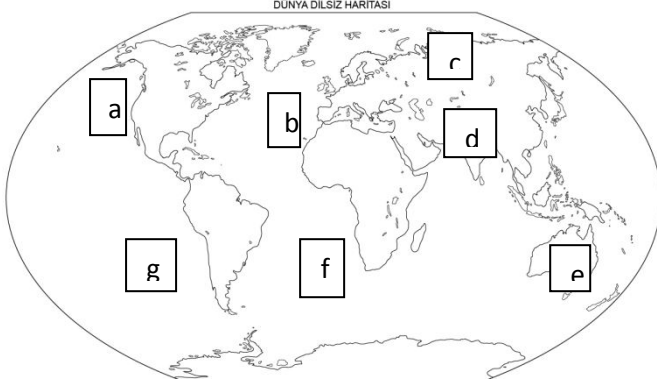
Adı
Soyadı
Sınıf/No
S-1 Basınç; basıncın dağılışı,

..... lisesi Müdürlüğü
Coğrafya Dersi Sınıf Yazılı
201../201.. Eğitim-Öğretim yılı ..dönem

/.../.....

Puan:

S-3 Basınç; basıncın dağılışı,



Yukarıda verilmiş Dünya haritası üzerinde belirli basınç yerleri vardır. Bu durum mevsime göre değişkenlik gösterebilir.

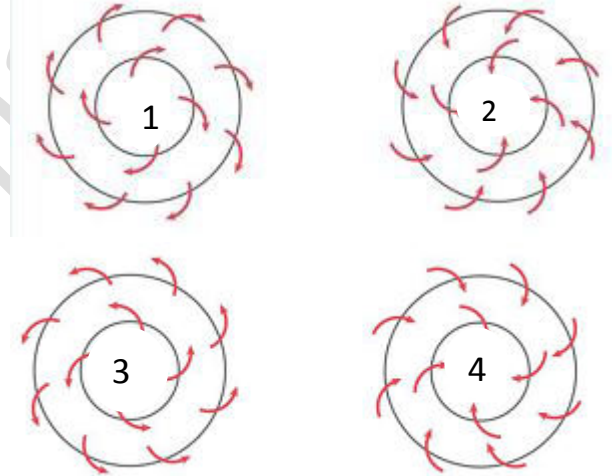
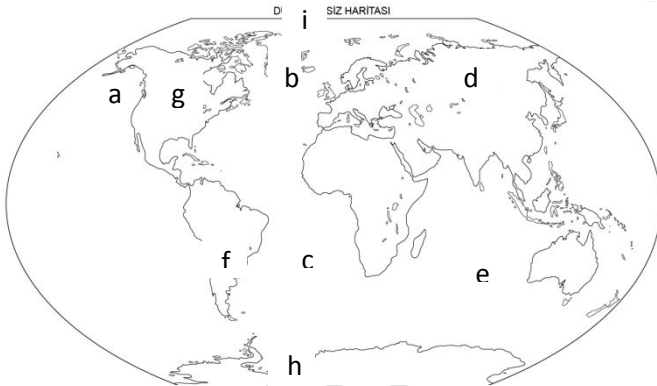
Sürekli basınç merkezlerini yukarıda verilen harita üzerinde gösteriniz.

Mevsimler	Basınç merkezleri	Hangi basınç gözlenir
Yaz	a merkezi	
Kış	c merkezi	
Yaz	f merkezi	
Kış	e merkezi	

1	İzlanda Dinamik Alçak Basıncı
2	Aluet Dinamik Alçak Basıncı
3	Asor Dinamik Yüksek Basıncı
4	Havai Dinamik Yüksek Basıncı:

S-2 Basınç; basıncın dağılışı, Aşağıda Ocak Ayı basınç dağılışı verilmiştir. Buna göre işaretli alanlarda belirtilen basınçları ilgili vere yazınız.

S-4 Basınç; basınç merkezleri ve hava hareketleri,

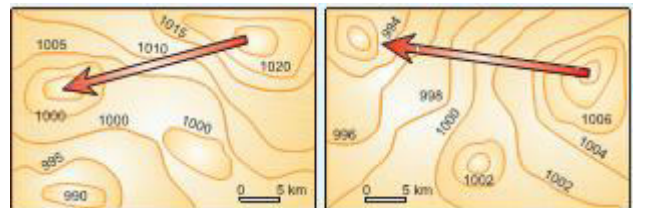


Yukarıda verilmiş Dünya haritası üzerinde belirli basınç yerleri vardır. Bu durum mevsime göre değişkenlik gösterebilir.

Merkezler	Yarım küre	Basınç özelliği
1		
2		
3		
4		

Mevsimler	Basınç merkezleri	Hangi basınç gözlenir
Kış	a merkezi	
Kış	b merkezi	
Kış	c merkezi	
Kış	d merkezi	
Kış	e merkezi	
Kış	f merkezi	
Kış	g merkezi	
Kış	h merkezi	
Kış	i merkezi	

S-5 Basınç; basınç merkezleri yakınlık-uzaklık durumu ve basınç farkı etkileri A B



Hangisi daha yavaş, hangisi daha hızlı eser? Niçin?