

Adı
Soyadı
Sınıf/No

..... lisesi Müdürlüğü
Coğrafya Dersi Sınıf Yazılı
201../201.. Eğitim-Öğretim yılı ..dönem

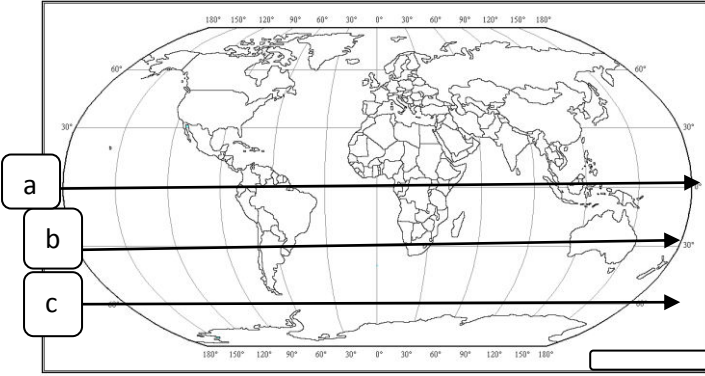
/.../.....

Puan:

1- Coğrafyanın bölümleri; eşleştiriniz.

Açıklama	Coğrafyanın alt alanı
Dünya üzerinde veya bir ülke içinde yer alan herhangi bir bölgenin genel coğrafi özelliklerini inceler	
İnsanların kültürel özelliklerini ve bunların yeryüzüne dağılışını inceler.	
Ulaşım üzerinde etkili olan faktörleri, ulaşım türlerini ve bunların dağılışını inceler	
Nüfus artışını, kıy ve şehir nüfusunu, nüfusun yaş, cinsiyet, eğitim özelliklerini, yoğunluğunu, sektörel dağılımını ve bunların dağılışında etkili olan faktörleri inceler.	
Bitki ve hayvan topluluklarının yeryüzündeki dağılışını ve bu dağılışı etkileyen faktörleri inceler.	

2- Aşağıdaki harita üzerinde 200 km'lik batı-doğu yönlü mesafede hangi çizgi üzerinde yerel saat farkı az olur?



3-Meridyenler;anti meridyenler,

Meridyenler	Anti meridyenler
23° BM	
13°DM	
126°DM	
133° BM	

4- Matematik Konum; Paraleller,

Yönleri		
Sayıları		
Toplam		

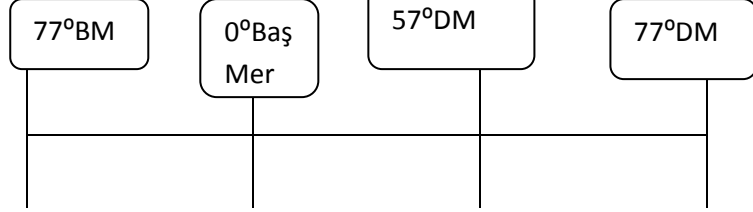
5-Coğrafyanın bölümleri; boşlukları doldurunuz.

Coğrafya		
Fiziki Coğrafya		
	Nüfus Coğrafyası	
		Kıtalar Coğrafyası

6-Yerel saatler; nasıl bulunur, işlem basamaklarını yazınız.

1	
2	
3	
4	

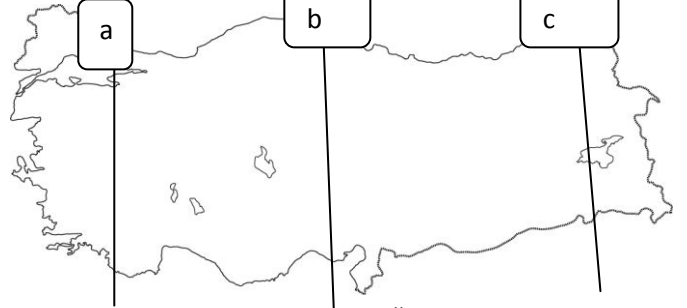
7-Yerel saat hesaplama;



Yukarıda 57°DM yerel saat 11:45'tir. Buna göre; Yerel saatleri bulunuz.

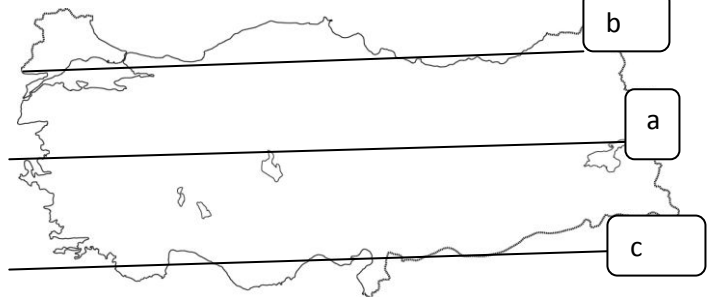
77°BM	
0°Baş Mer.	
77°DM	

8- Yerel saatler;



- 1-Güneş en önce hangi yerde doğar?
- 2- Güneş en önce hangi yerde batar?
- 3- Hangi yerin yerel saati ulusal saate yakındır?
- 4- Hangi yerin yerel saati ulusal saate uzaktır?
- 5- Hangi yerin boylam derecesi yüksektir?
- 6-Hangi yer Başlangıç Meridyenine yakındır?
- 7- Hangi yer Başlangıç Meridyenine uzaktır?
- 8- Hangi yer Almanya' ya daha yakındır?

9- Yerel saatler;



- 1- Hangi yer kuzey kutuba daha yakındır?
- 2- Hangi yer Ekvatora daha uzaktır?
- 3- Hangi yerin Enlem derecesi yüksektir?
- 4-Hangi yer Ekvatora daha yakındır?
- 5- Hangi yer de sıcaklık daha yüksektir?