

Adı
Soyadı
Sınıf/No

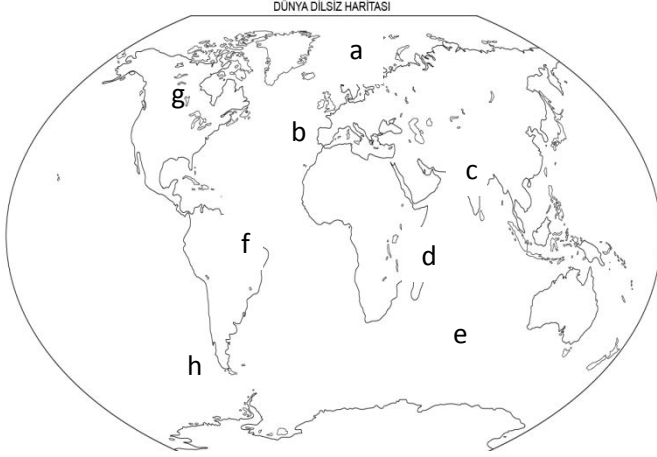
..... lisesi Müdürlüğü
Coğrafya Dersi Sınıf Yazılı
201../201.. Eğitim-Öğretim yılı ..dönem

/.../.....

Puan:

S-1 Sıcaklık; sıcaklığa etki eden faktörler,

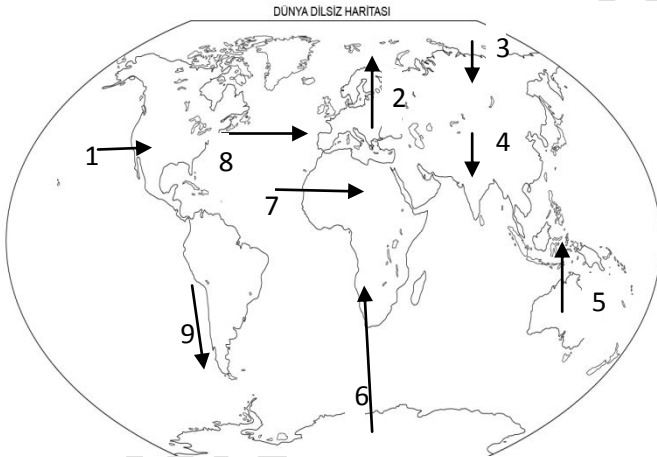
S-3 Sıcaklık; yükseltinin etkisi, Türkiye'nin yükselti profili



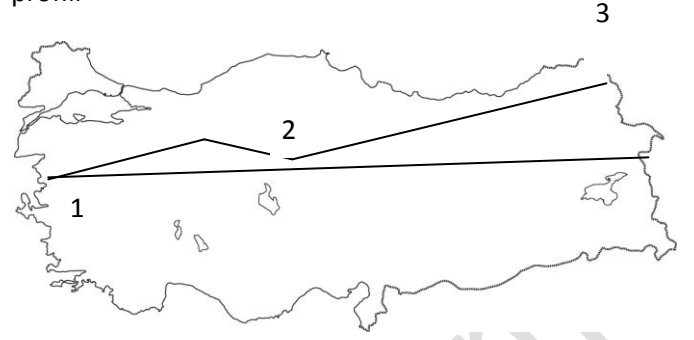
Yukarıda belirtilen yerlerin sıcaklığı farklıdır. Bu farklılığın nedenlerini aşağıdaki tablo üzerinde belirtiniz.

a	
b	
c	
d	
e	
f	nemlilik
g	
h	

S-2 Sıcaklık; sıcaklığa etki eden faktörler, aşağıda verilen Dünya haritası üzerinde yönler belirtilmiştir. Hangi yönlerde ilerleyen insanlar daha sıcak, daha soğuk ortamlara girerler?

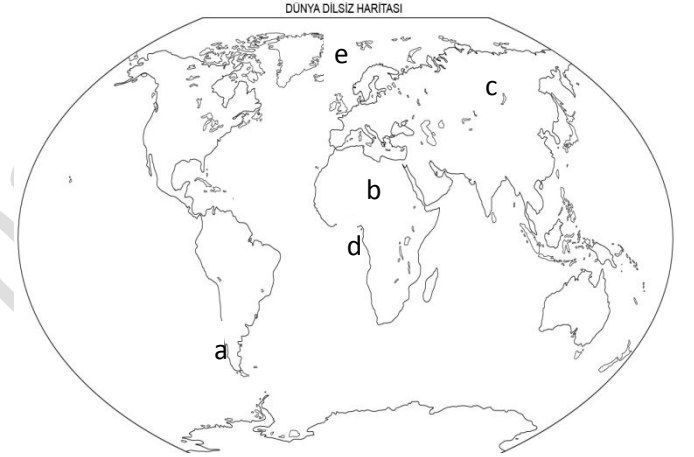


Yerler	Sıcaklık artar// azalır	Açıklama
1	azalır	Denizden karaya çıkma ve dağlık alan
2		
3		
4		
5		
6		
7		
8		
9		



Sayı	Yerler	Yükselti	Sıcaklık durumu nasıl olur
1	İzmir	0 m	
2	Konya	1000m	
3	Van	1660m	

S-4 Sıcaklık; Dünya'nın farklı sıcaklık yerleri ve nedenlerini tablo üzerinde belirtiniz.



Yer	Sıcak-soğuk	Açıklama
a		
b		
c		
d		
e		

S-4 Sıcaklık; okyanus akıntıları ve etkileri; soğuk su akıntılarının etkilediği dört yer belirtiniz.

