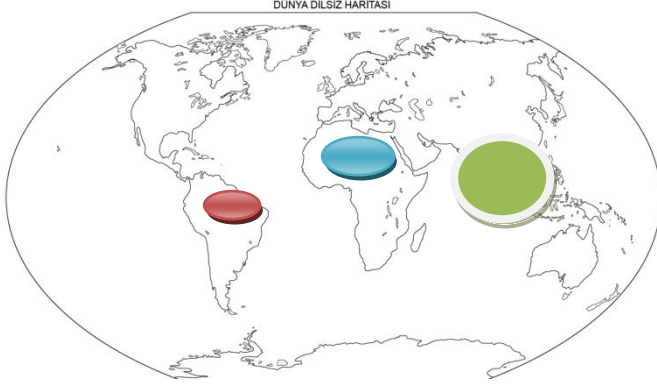


Adı  
Soyadı  
Sınıf/No  
1-



..... lisesi Müdürlüğü  
Coğrafya Dersi .... Sınıf Yazılı  
201../201.. Eğitim-Öğretim yılı ..dönem

/.../.....

Puan:  
5-Tarımsal nüfus ne demektir, neyi ifade eder?



Yukarıdaki harita üzerinde belirtilen yerlere ait nüfus özelliklerini belirtiniz.

	Nüfus özelliği	Nedeni
		
		
		

2- Nüfusun dağılımını etkileyen unsurlar nelerdir?

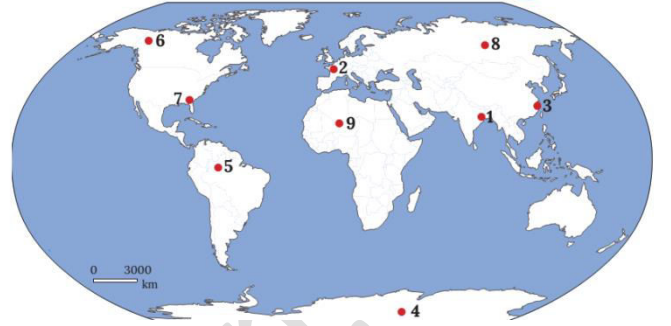


3- İklimin hangi özellikleri nüfusun dağılımına etki eder?

4-Aritmetik nüfus ne demektir, neyi ifade eder?

5-Fizyolojik nüfus ne demektir, neyi ifade eder?

6-Aşağıdaki Dünya haritası üzerinde sayılar verilmiştir.



Bu sayıların buldukları yerlerde nüfus nasıldır?  
Neden?

Sıra	Nüfus özelliği	Nedeni
1		
2		
3		
4		
5		
6		
7		
8		
9		

7- Kıtalar ve nüfus miktarları bakımından aşağıdaki tabloyu tamamlayınız.

Kıtalar	Nüfus % si
Asya	
Afrika	
Güney Amerika	
Avrupa	
Kuzey Avrupa	
Okyanusya	

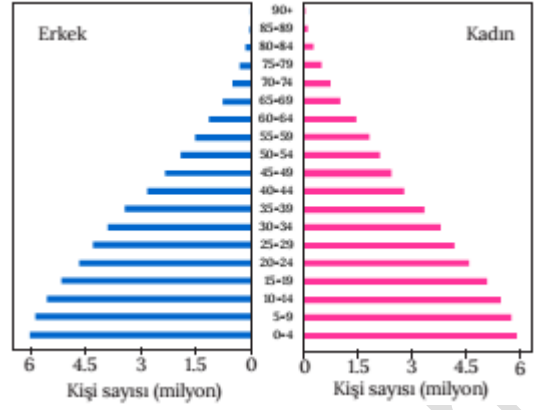
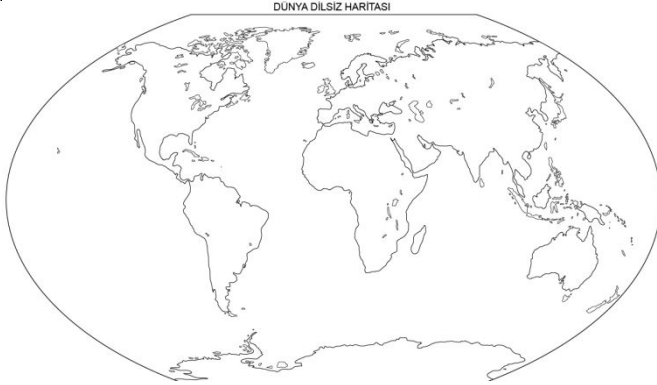
Adı  
Soyadı  
Sınıf/No

..... lisesi Müdürlüğü  
Coğrafya Dersi .... Sınıf Yazılı  
201../201.. Eğitim-Öğretim yılı ..dönem

/.../.....

Puan:

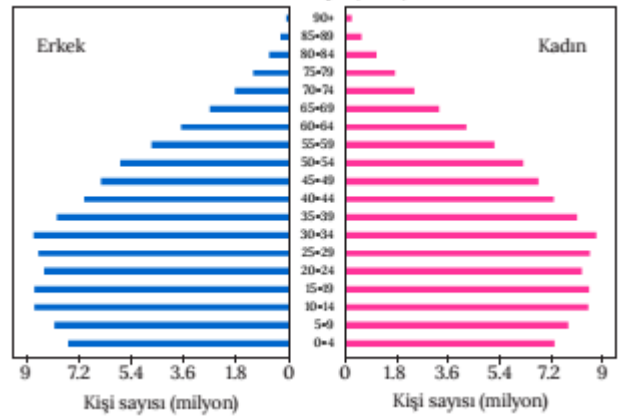
8- Aşağıdaki harita üzerinde nüfusu az olan yerleri belirtiniz.



9-Nüfus piramitlerini tanımlayınız.

10-Nüfus piramitleri kaç ana gruba ayrılır? Bunlar nelerdir?

S	Nüfus piramitleri
1	
2	
3	
4	
5	



11- Nüfus piramitleri aşağıda verilmiştir. Verilen piramitlerin isimlerini belirtiniz.

