

Adı
Soyadı
Sınıf/No

..... lisesi Müdürlüğü
Coğrafya Dersi Sınıf Yazılı
201../201.. Eğitim-Öğretim yılı ..dönem

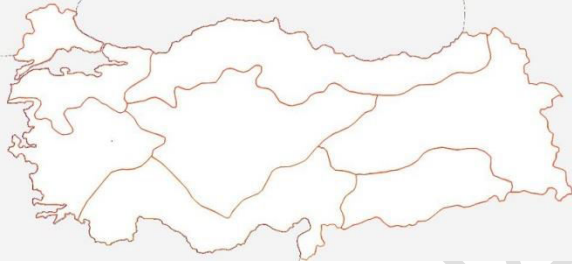
/.../.....

Puan:

S-1 Rüzgarlar; Fön rüzgarları ile verilen bilgilerden hatalı olanları belirtiniz.

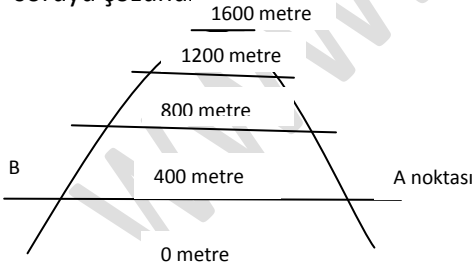
S	Bilgiler	D	Y
1	Bu hava kütleleri; yükselteleri aştıktan sonra aşağı yönlü harekete geçince, nem taşıma kapasitelerinin genişlemesine bağlı olarak yağış oluşturamaz.		
2	Bu rüzgârlar, etkili olduğu yamaçlarda sıcaklığı azaltarak havanın kurumasına neden olur.		
3	Bu rüzgârların etkili olduğu yerlerde aşağı doğru her 100 metrede 1 °C artar.		
4	Yazın etkili olduğu yerlerde kuraklığa, orman yangınlarına, tarım ürünlerinin erken olgunlaşmasına ve verimin düşmesine neden olur.		
5	Kışın etkili oldukları yerlerde ise karın erken erimesine bağlı olarak sel ve çığ olaylarına neden olur. Ayrıca düz alanlarda taşkınlar ve su baskınları meydana gelebilir.		
6	Etkili oldukları yerlerde solunum yolu rahatsızlıklarına (astım, bronşit, nefes darlığı vb.) iyi gelir.		
7	Dağlık bölgelerde kar örtüsünün erken kalkmasına bağlı olarak hayvancılık faaliyetlerini olumlu etkiler.		

S-2 Rüzgarlar; Fön rüzgarları özellikle dağlık bölgelerde etkilidir. Buna göre ülkemizin hangi bölgelerinde etkilidir.

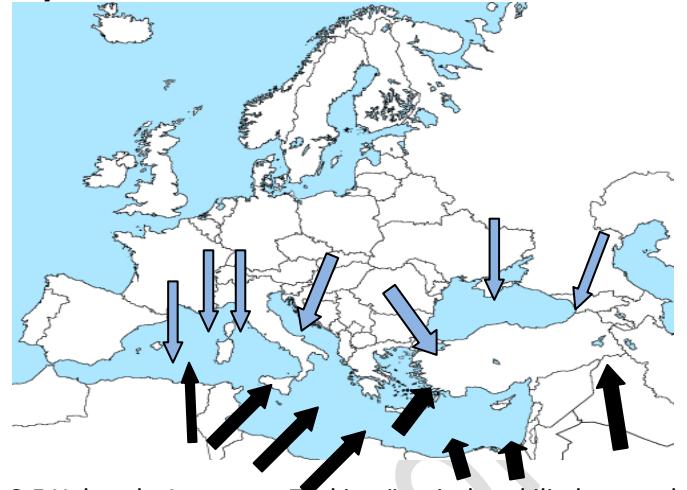


S	Etkili olduğu bölge	Etkili olduğu yön(yamaç)
1		
2		

S-3 Rüzgarlar; Fön rüzgarları dağlık bölgelerde sıcaklık üzerinde artırıcı etkiye sahiptir. Buna göre aşağıdaki soruyu çözünüz:



B noktasındaki şehirde hava sıcaklığı 20°C'dir. B noktasında esmeye başlayan fön rüzgarı A noktasındaki havayı kaç derece yapar?



S-5 Yukarıda Avrupa ve Türkiye üzerinde etkili olan yerel rüzgarlar gösterilmiştir. Bunlar sıcak-soğuk karakterlidir.

Aşağıdaki tabloda önce soğuk karakterli olanları;

S	Rüzgarın adı	Özelliği	Esiş yönü
1			
2			
3			
4			
5			
6			

Sonra sıcak karakterli olanları ilgili yerlere yazınız.

S	Rüzgarın adı	Özelliği	Esiş yönü
1			
2			
3			
4			
5			

S-6 Rüzgarlar; yerel rüzgarlar ve bunlara ait verilen bilgileri eşleştiriniz.(Mistral, Sirokko, Hamsin, Bora, Krivetz,)

S	Bilgiler	Hangisi?
1	Fransa'dan Akdeniz'e doğru esen soğuk, kuru ve şiddetli bir rüzgârdır.	
2	Romanya'nın iç kesimlerinden Tuna Vadisi boyunca Karadeniz'e doğru esen soğuk bir rüzgârdır	
3	Mısır ve Libya kıyılarına çölden esen sıcak, kuru ve toz yüklü bir rüzgârdır	
4	Afrika'daki Sahra Çölü'nden Cezayir, Tunus, İspanya, Sicilya ve İtalya kıyılarına doğru esen sıcak ve kuru bir rüzgârdır.	
5	Balkanlardan Adriyatik Denizi kıyılarına doğru esen soğuk ve kuru bir rüzgârdır.	

S-6 Rüzgarlar: yüksek hızlı rüzgarlar; tayfun, tornado, hurrucane, daha çok tropikal kuşakta okyanuslarda oluşur ve karalara doğru eserler.

S	Açıklama	Hangisi?
1	Asya Kıtası'nda olanlara	
2	ABD'de olanlara	
3	Meksika Körfezi'nde ve Antiller'de de olanlara	