

Adı  
Soyadı  
Sınıf/No

..... lisesi Müdürlüğü  
Coğrafya Dersi .... Sınıf Yazılı  
2016/2017 Eğitim-Öğretim yılı 2.dönem

/.../.....

Puan:

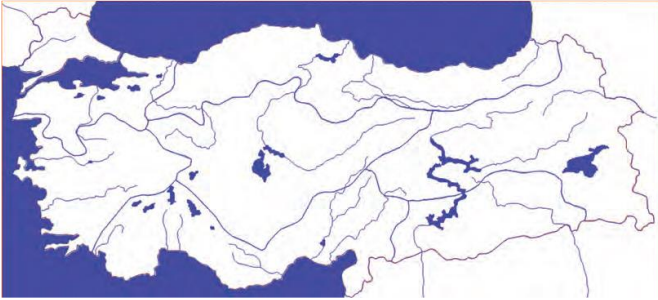
1-Aşağıda Türkiye haritası üzerinde nehirlerimiz belirtilmiştir.



Nehirleri Türkiye haritası üzerinde bölgelere göre belirtiniz.

- a-Marmara Bölgesinde.....  
b-İç Anadolu Bölgesinde.....  
c-Akdeniz Bölgesinde.....  
d-Güneydoğu Anadolu Bölgesinde.....  
e-Doğu Anadolu Bölgesinde .....  
f-Karadeniz Bölgesinde.....  
g-Ege Bölgesinde.....

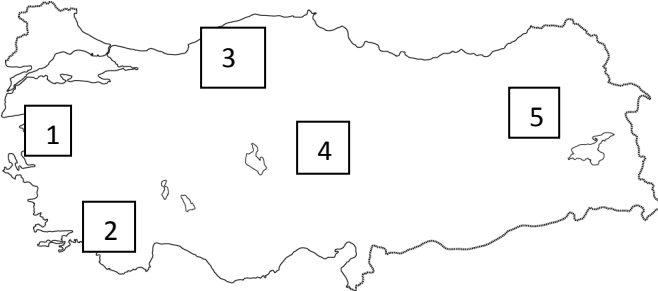
2-Aşağıda Türkiye haritası üzerinde göllerimiz belirtilmiştir.



Göllerimiz Türkiye haritası üzerinde bölgelere göre belirtiniz.

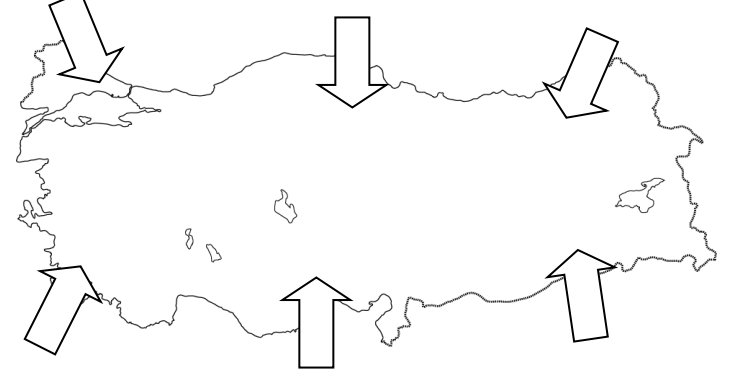
- a-Marmara Bölgesinde.....  
b-İç Anadolu Bölgesinde.....  
c-Akdeniz Bölgesinde.....  
d-Güneydoğu Anadolu Bölgesinde.....  
e-Doğu Anadolu Bölgesinde .....  
f-Karadeniz Bölgesinde.....  
g-Ege Bölgesinde.....

3- Aşağıda Türkiye haritası verilmiştir.



Türkiye'nin sıcaklık değerlerini göz önüne alarak en sıcak yerden en soğuk yere göre bir sıralama yapınız.(> kavramını kullanınız)

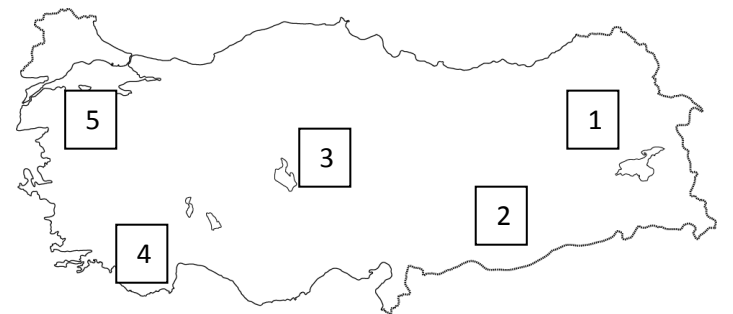
4- Aşağıda Türkiye harita üzerinde yerel rüzgarlar verilmiştir. Kuzey ve güney yönlü rüzgarların isimlerini harita üzerinde belirtiniz.



5- Aşağıda Türkiye harita üzerinde ülkemizi etkileyen basınc merkezleri verilmiştir.Bu merkezlerin neler olduğunu harita üzerinde gösteriniz.



5- Aşağıda Türkiye harita verilmiştir.



Türkiye'nin yükselti değerlerini göz önüne alarak en alçak yerden en yüksek yere göre bir sıralama yapınız.(> kavramını kullanınız)